



HAFİZİHO&PROJEİHO

4. SINIFLAR

SEVİYE BELİRLEME SINAVI

2022

Adı Soyadı :

Okulu :

T.C. Kimlik No :

ALANLAR	SORU SAYISI	TOPLAM SORU SAYISI	SÜRE
TÜRKÇE	15	60 SORU	90 DAKİKA
MATEMATİK	15		
FEN BİLİMLERİ	10		
SOSYAL BİLGİLER	10		
DİN KÜL.AH.BİL.	10		

1. Sınav süresince gözetmenlerin uyarılarına dikkat ediniz.
2. Sınav süresince kitap, sözlük veya elektronik araçları yanınızda bulundurmuyunuz.
3. Cevap kağıdınızdaki bilgilerin doğruluğunu kontrol ediniz.
4. Kitapçık üzerindeki ad-soyad, sınıf-no, okul bilgileriniz kodlamayı unutmayınız.
5. Cevap kağıdınız üzerinde bulunan kitapçık türünü doğru kodladığınızdan emin olunuz.
6. Sınavın değerlendirilmesi optik okuma araçları ve elektronik ortamda yapılacağından ikili veya toplu kopya çekilmesi tespit edilmektedir. Bu gibi durumlarda sınavınız geçersiz sayılacaktır.
7. Cevap kağıdı üzerinde kurşun kalemle işaretleme yapınız. Değiştirmek istediğiniz cevabınızı yumuşak silgi ile iz bırakmadan siliniz. Cevap kağıdınızı buruşturmayınız ve katlamayınız.
8. Soru kitapçığınızı sınav başlamadan kontrol ediniz. Eksik sayfa varsa değiştirilmesini isteyiniz.
9. Sınav bitiminde cevap kağıdınızı teslim etmeyi unutmayınız. Her sorunun bir doğru cevabı bulunmaktadır.
10. Başlayınız denilmeden kitapçığınızı açmayınız.
11. **ÖNEMLİ:** TC Kimlik numaranızı cevap formu üzerindeki alana dikkatli kodlayınız.

1.

KURBANINI PAYLAŞ
KARDEŞİNLE YAKINLAŞ

SON GÜN

BANKALAR 19 TEMMUZ 2021 MÜFTÜLÜKLER 20 TEMMUZ 2021

BAĞIŞLAR | ANLAŞMALI TÜM BANKALAR - PTT ŞUBELERİ - TDV ŞUBELERİ - İL ve İLÇE MÜFTÜLÜKLERİ

ONLINE BAĞIŞ MOBİL UYGULAMA ÇAĞRI MERKEZİ

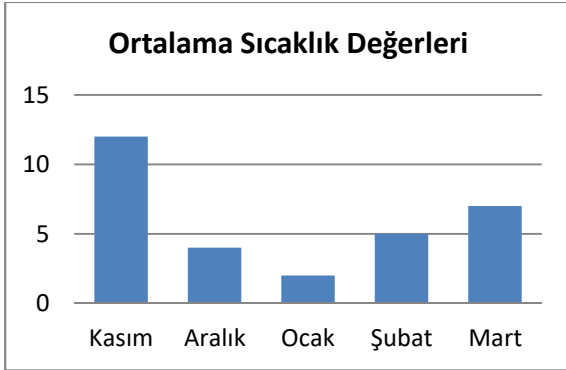
YURT İÇİ KURBAN BEDELİ 1.125 TL

YURT DIŞI KURBAN BEDELİ 925 TL

Verilen afiştten bu afiştteki kampanya ile ilgili aşağıdakilerden hangisine doğrudan ulaşamaz?

- A) Konusunun ne olduğuna
B) Sonucun nasıl öğrenilebileceğine
C) Kim tarafından düzenlendiğine
D) En son ne zaman başvurulabileceğine

2. Aşağıda bir şehirdeki beş farklı aya ait sıcaklık değer ortalaması bulunmaktadır.



Bu grafikten aşağıdaki bilgilerden hangisine ulaşamaz?

- A) En yüksek ortalama sıcaklığın hangi ayda gerçekleştiği
B) Aylar arasında ortalama sıcaklık değerlerindeki değişim
C) En düşük ortalama sıcaklığın ocak ayında olduğu
D) Beş ay boyunca her günlük sıcaklık değerlerinin neler olduğu

3. Yazılışları aynı ama anlamları birbirinden farklı olan kelimelere eş sesli veya sestesh kelimeler denir. Ancak cümle içinde aynı anlama gelen ve yazılışları da aynı olan kelimeler sestesh olarak nitelendirilmez.

Buna göre aşağıdakilerden hangisinde sestesh iki kelime aynı cümle içinde birlikte kullanılmıştır?

- A) Yüzde yüz haklıyım diye düşünmüştü.
B) Sevinçler mutluluklar hiç azalmasın istiyorum.
C) Gözüm masanın gözündeki dağınık kâğıtlara ilişti.
D) Ocak ayında her evin ocağında ateşler yakılır, yemekler pişirilir.

4. Nokta;

- Unvan bildiren kısaltmaların sonuna gelir.
- Sayılardan sonra sıra bildirmek için kullanılır.
- Cümlelerin sonuna gelir.

Aşağıdakilerden hangisi nokta hakkında yukarıda verilenlerden birisine ait örnek olamaz?

- A) 2. Dünya Savaşı 1945'e kadar devam etti.
- B) Prof. Dr. Fuat Sezgin 24 Ekim 1924'te dünyaya geldi.
- C) Bu otobüs 11.30'da mı hareket edecek?
- D) Buraya bazı konuları konuşmak için geldik.

5. Öyküler, kahramanların anlatıldığı ve olayların geçtiği yer ve zaman hakkında kısa bilgi verilen giriş bölümleriyle başlar. Sonraki bölümlerde bu kahramanların başından geçen olaylar okuyucuya detaylarıyla aktarılır.

Buna göre aşağıdakilerden hangisi bir öykünün giriş bölümü olabilir?

- A) Sonunda köyün ortasında dev kazanlar kuruldu ve büyük bir sofraya hazırlandı.
- B) 1700'lerin başında İstanbul'da küçük bir terzi atölyesinde çalışan bir terzi çırağı varmış.
- C) Şartlar ne olursa olsun bu kardeşler birbirlerine hep destek olurdu.
- D) Başından beri herkes durumundan şüphelenmiş ama kimse sesini çıkaramamış.

6. Sınıfa girince bir soru sordum ama kimse-den ses çıkmadı(1) Ben de onlara dönüp şöyle dedim(2) "Herkes beni dinlesin(3) Size dün mesaj olarak kitabın hangi sayfalarını çalışmanız gerektiğini göndermedim mi(4)"

Bu metinde numaralandırılmış yerlere gelmesi gereken noktalama işaretleri aşağıdakilerden hangisinde verilmiştir?

	(1)	(2)	(3)	(4)
A)	'	:	?	.
B)	.	:	!	?
C)	'	,	.	?
D)	:	;	,	,

7. 2020 yılının başlarında tüm dünya yeni bir sağlık sorunu ile tanışmak zorunda kaldı. Koronavirüs olarak bilinen bir virüs türü tüm dünyayı etkisi altına aldı. Virüsün yayılmasının ardından ciddi bir tehdit olduğu anlaşıldı. Pek çok ülke önlemler aldı. Ülkemizde son yıllarda yapılan şehir hastaneleri de pandemi adı verilen salgın hastalıkla mücadelede önemli rol oynadı.

Bu metinden aşağıdaki bilgilerden hangisine ulaşılabilir?

- A) Koronavirüsün tahmini çıkış zamanı
- B) Ülkemizde salgına karşı çalışmalar yapıldığı
- C) Virüsün yayılma şeklinin keşfedildiği
- D) Salgın hastalığın tüm dünyayı etkilediği

8. Aşağıdaki cümlelerin hangisinde bir yazım yanlışı yapılmamıştır?

- A) Bu sınavda 3.üncü olmuşum da habereyim yokmuş.
- B) Sen yarın ki sınava çalışmadın mı?
- C) Bende senin gibi düşünüyorum.
- D) İstanbul'u 1453'te fethettik.

9.



Bu görsel aşağıdakilerden hangisine dikkat çekmek amacıyla hazırlanmıştır?

- A) Orman yangınlarının önlenabilir olduğuna
- B) Ağaçlandırmanın önemine
- C) Ormanların oksijen sağladığına
- D) Düzensiz şehirleşmenin zararlarına

10.(1) Geçenlerde bir tanıdığımdan araba satın aldım.

(2) Daha ilk kullanmada bazı sorunlar yaşamaya başladım.

(3) Yolda giderken motor tekliliyor, biraz hızlanınca da arabanın her yerinden sesler geliyordu.

(4) Yani senin anlayacağın yeni de almış olsam arabadan iyice soğudum.

Numaralandırılmış cümlelerden hangisinde altı çizili sözcük mecaz anlamda kullanılmıştır?

- A) 1
- B) 2
- C) 3
- D) 4

11.Ebru, kendine özgü tekniklerle hazırlanan ve tekneye alınan suyun üzerinde boyalarla oluşturulan desenlerin kâğıda aktarılmasıyla yapılan geleneksel bir sanattır. Ebru kitap süsleme sanatı ve kitap ciltlerinde yan kâğıdı olarak tarihsel süreçte geleneksel bir sanat haline gelmiştir. 13. yüzyılda ilk Ebru formları Orta Asya'da görülmüş olup İran aracılığıyla Anadolu'ya yayılmıştır. Osmanlı döneminde, Türk hat ustaları ve sanatçıları yeni formlar yaratmış ve tekniklerini geliştirmişlerdir.

Bu parçada ebru sanatı ile ilgili aşağıdakilerden hangisine değinilmemiştir?

- A) Yapılış şekli
- B) Tahmini ortaya çıkış zamanı
- C) Kullanım yerleri
- D) Çeşitleri

12.“dik” kelimesi, aşağıdakilerden hangisinde diğerlerinden farklı bir anlamda kullanılmıştır?

- A) Dik yamaçları ile meşhur bir dağdır.
- B) Ağacın yanında dik halde duran tırnığı al da gel!
- C) Bu kumaştan bana güzel bir gömlek dik!
- D) İğneyi dik bir şekilde batırman gerekirdi.

13.Türkçe yazım kurallarına göre “ki” eki cümle içinde bağlaç olarak kullanıldığında ayrı yazılmalıdır. Şüphe ve pekiştirme göreviyle kullanılan “ki” sözü de ayrı yazılır. Ancak kalıplaşmış bazı kelimeler içindeki “ki” eki bitişik yazılır.

Buna göre aşağıdakilerden hangisinde “ki” ekinin yazımında yanlışlık yapılmıştır?

- A) Ben hiç kimseyle tartışmamki!
- B) Gördük ki başarı öyle kendiliğinden gelmiyormuş.
- C) Geçmiş zaman olur ki herkes tekrar bir araya gelir.
- D) Belki bir dahaki sefere onu da getiririz.

14.Aşağıdakilerden hangisinde altı çizili sözcüğün cümleye kazandırdığı anlam o cümlenin sonundaki ayraç içinde yanlış verilmiştir?

- A) Ortalığı bir anda su bastı. (kaplamak)
- B) Sabah erken çıkmamız senin bizi uyandırmaya bağlı. (şart)
- C) Bugün aldığımız karpuz bal gibi çıktı. (tatlılık)
- D) İşin başında sen oldukça sırtımız yere gelmez. (vücudun bir bölümü)

15.Birisini ikna etmek, bir şeye inandırmak için pek çok sözler söyleriz.

Aşağıdakilerden hangisinde bu durumu anlamca karşılayan bir deyim kullanılmıştır?

- A) İzin alabilmek için epey dil döktük.
- B) Uzun zamandır görmediğim arkadaşımı görünce dilim tutuldu.
- C) Akşam samimi bir ortamı bulunca iyice dili açıldı.
- D) Meselenin iç yüzünü dile getirmek istemedi.

Türkçe testi sona ermiştir. Lütfen Diğer Teste Geçiniz.

Cevap Formunuzda Cevaplarınızı Bir Sonraki Bölüme Kodlayınız.

1. Bir öğrenci için bilgisayar satın alınacaktır. Fiyatları ve ödeme şekilleri farklı iki modelden biri seçilecektir.

1. bilgisayarın fiyatı 14000 TL'dir. Bunun 500 TL'si peşin verilecek, kalan miktarı 20 eşit taksitte ödenecektir.

2. bilgisayarın fiyatı 12750 TL'dir. Bunun 1500 TL'si peşin verilecek, kalan miktarı 9 eşit taksitte ödenecektir.

Buna göre iki bilgisayarın ilk taksitleri arasındaki fiyat farkı aşağıdakilerden hangisidir?

- A) 500 TL
B) 575 TL
C) 600 TL
D) 625 TL

2. Bir otobüs hattında haftalık taşınan yolcu sayısı ile ilgili tablo aşağıda verilmiştir.

Hafta	Yolcu sayısı
1. Hafta	Otuz altı bin beş
2. Hafta	Yirmi üç bin altı yüz on sekiz
3. Hafta	Otuz üç bin üç yüz otuz sekiz

Buna göre bu otobüs hattına üç haftada toplam kaç yolcu taşınmıştır?

- A) Doksan iki bin dokuz yüz altmış bir
B) Yüz bin üç yüz altmış bir
C) Seksen altı bin altı yüz bir
D) Doksan dokuz bin iki yüz altmış bir

3. 16435, 97382, 48736, 62734 ve 82934 sayıları büyükten küçüğe doğru sıralanacaktır. Sıralama sonrası sayı değeri en küçük 2. sayı en yakın yüzlüğe yuvarlanacaktır.

Yukarıdaki işlemin sonucunda aşağıdaki hangi sayı bulunur?

- A) 62700
B) 48700
C) 16400
D) 82900

4. Ayşe, üç gün boyunca bir kitaptan düzenli olarak soru çözümleri yapmıştır. Ayşe'nin çözdüğü günlük soru sayısı aşağıdaki tabloda verilmiştir:

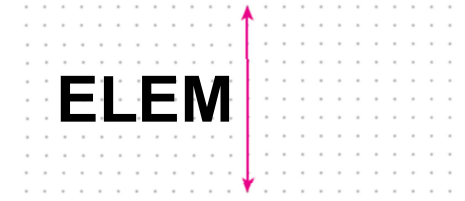
Gün	Çözülen soru sayısı
Pazartesi	78
Salı	167
Çarşamba	103

Ayşe, Perşembe günü 146 soru daha çözerse elindeki soru kitabını bitirecektir.

Buna göre Ayşe'nin çözdüğü soru kitabı kaç sorudan oluşmaktadır?

- A) $(3 \times 100) + (5 \times 10) + (9 \times 1)$
B) $(3 \times 100) + (6 \times 10) + (4 \times 1)$
C) $(4 \times 100) + (1 \times 10) + (2 \times 1)$
D) $(4 \times 100) + (9 \times 10) + (4 \times 1)$

- 5.



"ELEM" kelimesinin verilen doğruya göre simetriği aşağıdakilerden hangisidir?

A)	
B)	
C)	
D)	

6.

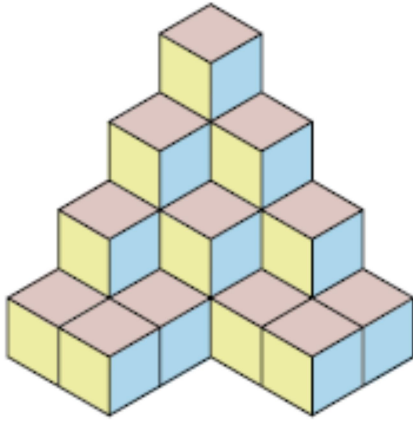


Bir fırında bir günde her birinde 25 ekme bulunan 14 kasa ekme satılmaktadır. Fırını bu ekmeklerin 13 kasını tanesi 2 TL'den satmıştır. Kalan ekmekleri ise ihtiyaç sahiplerine yarı fiyatından satmıştır.

Buna göre fırıncı bu satıştan kaç TL elde etmiştir?

- A) 650
- B) 675
- C) 705
- D) 755

7.



Verilen şekil birbirine eş birim küplerden oluşmaktadır. Şekilde üst katlardaki birim küplerin altında da tabana kadar birim küp bulunmaktadır.

Buna göre bu şekilde kaç birim küp bulunmaktadır?

- A) 22
- B) 23
- C) 24
- D) 25

8. 3386 sayısı ile bu sayıdan farklı dört basamaklı başka bir sayı, ikisi de en yakın yüzlüğe yuvarlanarak toplanıyor. Yapılan toplama işleminde sonuç 5600 olarak bulunuyor.

Buna göre toplama işlemindeki diğer sayı aşağıdakilerden hangisi olabilir?

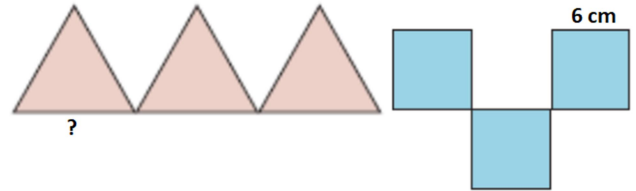
- A) 2065
- B) 2127
- C) 2188
- D) 2251

9. Birbirlerinden farklı dörder basamaklı 4 doğal sayının toplamı 9203'tür. Bir sayının içinde aynı rakam birden çok kullanılabilir.

Bu dört sayı da birbirinden farklı olduğuna göre, bu sayılardan birinin alabileceği en büyük değer aşağıdakilerden hangisidir?

- A) 6003
- B) 6066
- C) 6183
- D) 6200

10.



Yukarıda birbirinin aynısı üç eşkenar üçgen ile yine birbirinin aynısı üç kare bulunmaktadır. Karelerden oluşan şeklin toplam çevre uzunluğu da üçgenlerden oluşan şeklin toplam çevre uzunluğu ile aynıdır. Karelerin bir kenarının uzunluğu ise 6 cm'dir.

Buna göre soru işareti ile gösterilen üçgenin bir kenar uzunluğu aşağıdakilerden hangisidir?

- A) 7
- B) 8
- C) 9
- D) 12

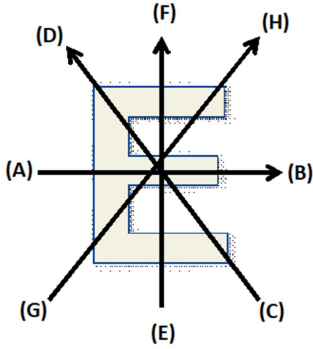
11. Aşağıda verilen kutuların içindeki sayılar artan bir sayı örüntüsü oluşturmaktadır.



Buna göre X ve Y sayılarının toplamı aşağıdakilerden hangisidir?

- A) 1001
B) 1011
C) 1101
D) 1111

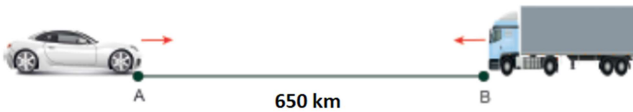
12.



Şekilde hangi harfle başlayıp hangi harfle biten ok işareti E harfinin simetri doğrusudur?

- A) A, B
B) C, D
C) E, F
D) G, H

13.

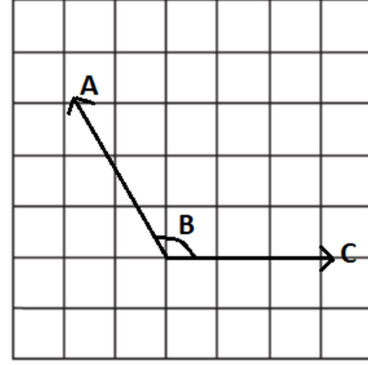


A ve B noktaları arasındaki uzaklık toplam 650 km'dir. A noktasından yola çıkan bir araba yolun $\frac{8}{13}$ 'ünü gittikten sonra bir mola yerine varır. B noktasından yola çıkan kamyon da aynı dinlenme tesisinde mola vermiştir.

Buna göre B noktası ile dinlenme tesisleri arası kaç kilometredir?

- A) 250
B) 300
C) 350
D) 400

14.



Şekildeki (ABC) açısının ölçüsü aşağıdakilerden hangisi olabilir?

- A) 43°
B) 65°
C) 88°
D) 119°

15. Saat 12.30'da başlayan bir tenis maçı toplamda üç set sürmüştür. Set aralarında da bir miktar mola verilmiştir. Bu tenis maçı ile ilgili zaman çizelgesi aşağıdaki tabloda belirtilmiştir.

Saat	Açıklama	Süre
12.30	Başlangıç	
	1. set	34 dakika
	1. mola	12 dakika
	2. set	28 dakika
	2. mola	14 dakika
	3. set	

Buna göre 3. setin başlangıç zamanı aşağıdakilerden hangisidir?

- A) 13.44
B) 13.58
C) 14.02
D) 14.14

Matematik testi sona ermiştir. Lütfen Diğer Teste Geçiniz.

Cevap Formunuzda Cevaplarınızı Bir Sonraki Bölüme Kodlayınız.

1.



Akik taşının birçok faydası olduğu düşünülmektedir. Aksesuar olarak kullanılan ve çeşitli faydaları olduğuna inanılan akik taşı doğada genellikle koyu kırmızı ve kahverengi tonlarındadır. Ancak Yemen Taşı adıyla da bilinen akik taşları pek çok farklı renkte de olabiliyor.

Akik taşlarının pek çok farklı renkte olmasının nedeni aşağıdakilerden hangisidir?

- A) Doğal yoldan elde edilmeleri
- B) Aksesuara uygun işlenmeleri
- C) Çıkarıldıkları iklim koşulları
- D) Oluşumlarındaki mineraller

2. Hava kirliliği günümüzün en büyük çevre sorunlarından biridir. Bu kirliliğin nedenlerinden biri fosil yakıtların yoğun bir şekilde kullanılmasıdır. Fosil yakıtlar örneğin elektrik üretimde sıkça kullanılmaktadır. Hava kirliliğini azaltmak isteyen ülkeler bu yakıtların kullanımını azaltmaya çalışmaktadır.

Buna göre aşağıdakilerden hangisi fosil yakıtla çalıştığı için kullanımını azaltılmaya çalışılmaktadır?

- A) Kömür santralleri
- B) Güneş panelleri
- C) Rüzgâr türbini
- D) Barajlar

3. Ailesi gelişim çağında boyu yeteri kadar büyümemiş olan çocuklarını doktora götürmüşlerdi. Doktor, tavsiye olarak beslenmeye dikkat etmelerini istemiş; aileden çocuklarına et, süt, yoğurt, peynir ve yumurta gibi besinleri daha çok yedirmelerini söylemişti.

Doktorun tavsiyesi bu besinlerin bileşeninde aşağıdakilerden hangisinin daha çok bulunmasıyla ilgilidir?

- A) Karbonhidrat
- B) Protein
- C) Yağ
- D) Su

4. Görselde farklı ülkelerde aynı anda farklı saat dilimlerinin olduğuna yer verilmektedir.



Bunun nedeni her ülkede güneşin doğuş zamanının diğerlerine göre farklı zamanda olmasıdır. Doğudaki ülkelerde güneş doğmuş ve sabah olmuşken batıdaki ülkelerde henüz gece yaşanmaktadır.

Bu durumun nedeni aşağıdakilerden hangisidir?

- A) Dünya'nın kendi çevresindeki dönme hareketi
- B) Dünya'nın Güneş çevresindeki dolanım süresi
- C) Dünya'nın kendi çevresindeki dönüş hızının azalıp artması
- D) Güneş'in Dünya çevresindeki dönüş süresi

5.



Görselde bir örneği de verilen canlı kalıntısıdır. Eski çağlarda yaşamış bitki ve hayvanların sertleşmiş kalıntı ve izlerine denir.

Bu örnekte aşağıdakilerden hangisi anlatılmaktadır?

- A) Kayaç
- B) Maden
- C) Fosil
- D) Mineral

6. Aşağıdaki görsellerde yüksekten atlayan bir paraşütçünün önce yerçekiminin etkisiyle yeryüzüne doğru inişi, sonra paraşütünün açılmasıyla iniş hızının azalması gösterilmektedir.



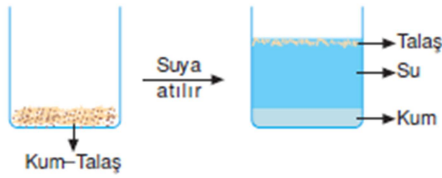
Buna göre iki resimde sırasıyla kuvvetin hangi etkileri gösterilmektedir?

- A) Yavaşlatıcı – hızlandırıcı
B) Hızlandırıcı – yavaşlatıcı
C) Şekil değiştirici – yön değiştirici
D) Yön değiştirici – şekil değiştirici
7. Mıknatıslar, son yıllarda geri dönüşüm sektöründe yoğun olarak kullanılan maddelerdir. Çünkü geri dönüşüm olarak nitelendirilen atıklar arasında pek çok farklı madde türü bulunmaktadır. Bu nedenle onları ayırtmak için mıknatıslardan yararlanılmaktadır. Bazı maddeler mıknatıs yardımı ile diğer maddelerden ayrılır.

Aşağıdakilerden hangisi mıknatısla çekilerek diğer maddelerden ayrılır?

- A) Tahta parçaları
B) Plastik kovalar
C) Demir çiviler
D) Cam şişeler

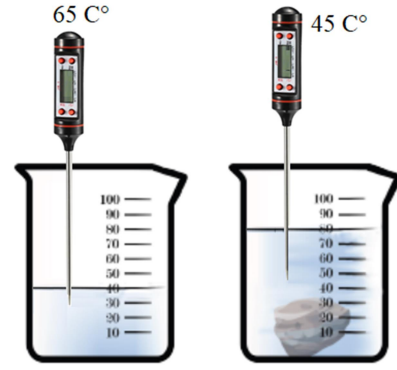
8.



Talaş ve kum karışımından talaşı ayırmak için yukarıdaki görselde kullanılan yöntem aşağıdakilerden hangisidir?

- A) Mıknatıslama
B) Yüzdürme
C) Buharlaştırma
D) Eleme

9.



Yukarıdaki ilk görselde içinde sadece su olan dereceli kaptaki 40 ml. su bulunmaktadır. İçine taş atıldıktan sonra ise kaptaki su ve taşın hacmi 80 ml. olarak ölçülmüştür. Ayrıca kaptaki suyun değişimi de dijital termometre ile ölçülüp görselde belirtilmiştir.

Buna göre aşağıdakilerden hangisi doğrudur?

- A) Suyun ve taşın hem hacimleri hem de sıcaklıkları aynıdır.
B) Su ve taşın hacimleri aynıdır ancak su taştan daha soğuktur.
C) Suyun hacmi taştan daha çoktur ancak ikisinin de sıcaklıkları aynıdır.
D) Su ile taş hacim olarak eşittir ancak taş sudan daha soğuktur.

10. Son yıllarda yapılan bazı araştırmalar göçmen kuşların yolculuk rotalarından saptıkları ve hatta doğada kaybolduklarını göstermektedir. Bunun nedeni ise göç yolları üzerindeki yerleşim yerlerinde aşırı parlak aydınlatma öğelerinin kullanılmasıdır.

Metne göre göçmen kuşların göç yönlerini kaybetmesine neden olan etken aşağıdakilerden hangisidir?

- A) Işık kirliliği
B) Çevre kirliliği
C) Geri dönüşüm
D) Kaynak israfı

Fen Bilimleri testi sona ermiştir. Lütfen Diğer Teste Geçiniz.

Cevap Formunuzda Cevaplarınızı Bir Sonraki Bölüme Kodlayınız.

1. "Mezarlıklara ve karınca yuvalarına bakılarak da yön belirlemesi yapılabilir. Örneğin Müslüman mezarlıklarında mezarın baş kısmı batıyı gösterir. Karıncalar ise yer altından çıkardıkları toprakları yuvalarının ağzına yığarlar. Bu toprak yığını ağırlıklı olarak yuva girişinin kuzeyinde bulunur. Yuvanın açık olan ağzı ise güney yönüne bakar."

Öğretmeninden yön bulma konusunda bu bilgileri öğrenen Hatice, yolda ilerlerken önce karınca yuvasının ağzı açık yönü doğrultusunda yürümüş sonra da bir Müslüman mezarının baş kısmının tersi yönünde ilerlemiştir.

Verilen bilgilere göre Hatice hangi yön doğrultusunda ilerlemiştir?

- A) Güney - Doğu
B) Kuzey - Batı
C) Kuzey - Güney
D) Güney - Batı

2. Geçtiğimiz yıllarda Elazığ ve Malatya'da yaşanan deprem dolayısıyla devletimiz bölgeye hızlı bir şekilde yardımları ulaştırmış ve çadır, yiyecek, ısınma gibi ihtiyaçlar hızlı bir şekilde çözüme kavuşturulmuştur. Devletimizin afet ve acil durumlarda halkımızın yardımına koşan birimi AFAD'dır. AFAD yetkilileri enkaz altında kalan onlarca insanın kurtarılmasında büyük rol oynamış ve depremin olumsuz etkilerini azaltmaya çalışmıştır.

Verilen bilgilere göre AFAD'ın vatandaşlarımıza yönelik hangi hakkının korunmasını sağladığını söyleyebiliriz?

- A) Sağlık
B) Beslenme
C) Yaşama
D) Barınma

3. Eskiye düşündüm de hayat şimdi ne kadar da kolaylaşmış. Biz gençliğimizde yolculuk için otogarlara gider bilet alırdık. Şimdi ise çocuklar bana ta uzaklardan internet üzerinden bilet aldılar. Cep telefonuma da bileti göndermişler.

Bu konuşmada hangi alandaki teknolojik gelişmelere örnek verilmektedir?

- A) Beslenme
B) Ulaşım
C) Sağlık
D) Eğitim

4.



Arkadaşlar! Benim adım Esra. Okulumuzda kurduğumuz kulüpteki arkadaşlarla birlikte bir afiş hazırladık. Bu afişte doğal yiyeceklerin yenmesini tavsiye edecek sloganlar kullandık. Ayrıca afişte yandaki görsele de yer verdik. Kulüp olarak bir ürün satın alırken de son kullanma tarihlerine dikkat etmemiz gerektiğini çevremize anlattık.

Buna göre Esra'nın kulübü aşağıdakilerden hangisi olamaz?

- A) Çevreyi koruma Kulübü
B) Bilinçli Tüketici Kulübü
C) Sağlıklı Beslenme Kulübü
D) Trafik ve ilkyardım Kulübü

5. Erten: "Arkadaşlar! Ben Ege Denizi'nin kıyısında yaşıyorum. Burada yazları sıcak ve nemli olur. Kışları diğer yerlere göre daha ilik geçer. Turizm, burada önemli bir ekonomik alandır. Burası nüfus açısından da ülkenin en kalabalık şehirlerindedir."



Erten'in anlattıklarına göre yaşadığı şehir yukarıdaki haritada hangi numarayla gösterilmiştir?

- A) (I)
B) (II)
C) (III)
D) (IV)

6.



Arkadaşlar, benim adım Alper. Kazım Karabekir İlkokulu 4. Sınıf öğrencisiyim. Okulumuzun ismi Kurtuluş Savaşı-mız sırasında şehrimizi Ermenilerden kurtaran komutanımızdan gelmektedir. Ayrıca o zamanlar annesi babası düşmanlar tarafından şehit edilmiş yaklaşık 2000 çocuğu evlat edinmiş, onların ihtiyaçlarını karşılamıştır.

Anlattıklarına göre Alper'in yaşadığı şehir aşağıdakilerden hangisidir?

- A) Erzincan
- B) Kütahya
- C) Mardin
- D) İzmir

7. Aşağıdaki Mustafa'nın ekonomi ve çalışma ile ilgili düşünceleri yer almaktadır.



Şöyle düşünün! Herkesin elinde çok parası var ve hiç kimsenin para kazanmaya ihtiyacı olmasın. Bu durumda kimsenin çalışmaya ihtiyacı olmazdı. Çiftçilik yapılmaz, ekme satılmazdı. O zaman da para işe yaramaz, yiyecek bulamazdık.

Mustafa, bu sözlerle aşağıdakilerden hangisinin önemli olduğunu anlatmaktadır?

- A) Para kazanma
- B) Üretim yapma
- C) Yardımlaşma
- D) Adaletli olma

8. Kurtuluş Savaşını konu edinen tarihi bir gezi planlanmıştı. Buna göre Mustafa Kemal'in 19 Mayıs 1919'da Samsun'a gelişi nedeniyle gezi Samsun'dan başlayacaktı. Sonrasında ise milli mücadelemizin iki büyük kongresinin yapıldığı iller ziyaret edilecektir.

Buna göre Samsun'dan sonra bu gezi programında aşağıdaki hangi iki şehir kesinlikle yer almalıdır?

- A) Erzurum – Sivas
- B) Kayseri – Malatya
- C) Ankara – İzmir
- D) Giresun - Rize

9. Kurtuluş Savaşı, milletimizin gösterdiği olağanüstü çabalarla kazanılmıştır. Bu savaşta yalnızca erkekler değil pek çok kadın da çeşitli görevler üstlenmiştir. Bu kadın kahramanlardan biri de Güney Cephesi'nde Fransızlara karşı savaşmıştır. Atılganlığı ve cesareti ile kendisine "Tayyar" lakabı verilmiştir.

Güney Cephesi'nde savaşa katılan bu kahramanımız aşağıdakilerden hangisidir?

- A) Erzurumlu Nene Hatun
- B) Kastamonulu Şerife Bacı
- C) Osmaniyeli Rahmiye Hanım
- D) Gördesli Makbule Hanım

10.



Görsel, Kurtuluş Savaşı'mızda cepheye cephane, erzak, giyecek gibi malzemeleri taşıyan ninelerimize aittir.

Verilen görsel aşağıdakilerden hangisine doğrudan örnek olusturmaz?

- A) Vatanseverlik
- B) Fedakârlık
- C) Milli birlik bilinci
- D) Adaletli olma

Sosyal Bilgiler testi sona ermiştir. Lütfen Diğer Teste Geçiniz.

Cevap Formunuzda Cevaplarınızı Bir Sonraki Bölüme Kodlayınız.

1.



Esirgeyen ve ba-
ğışlayan Allah'ın
adıyla başladım.

Merve, arkadaşı ile birlikte bir şeyler yiyecekti. Elindekini yemeye yukarıda anlamı verilen sözü söyleyerek başladı.

Buna göre Merve, yemeye aşağıdakilerden hangisini söyleyerek başlamıştır?

- A) Bismillahirrahmanirrahim
- B) Maşaallah tebarekallah
- C) Subhanallahi velhamdü lillah
- D) Allahu ekber ve lillahil hamd

2.



Peygamberimiz, Hz. Cebrail'in kendisine getirdiği vahiyleri bize öğretmiştir. Böylece kıyametten sonra hesaba çekilen hiç kimse "Ben dünyada ne yapmam gerektiğini bilmiyordum" diyemez.

Harun'un söylediklerinde aşağıdaki hangi iman esasına doğrudan değinilmemiştir?

- A) Meleklerle iman
- B) İlâhi kitaplara iman
- C) Kadere iman
- D) Ahirete iman

3.

..... anlamı anlamı
"Ben kabul ederim ki Allah'tan başka ilâh yoktur. Yine kabul ederim ki Hz. Muhammed Allah'ın kulu ve resulüdür."	"Allah'tan başka ilah yoktur. Hz. Muhammed Allah'ın elçisidir."

Verilen tabloda noktalı yerlere getirilmesi gerekenler aşağıdakilerden hangisinde verilmiştir?

- A) Rahman - Rahim
- B) Kelime-i Şehadet - Kelime-i Tevhid
- C) Hamd - Salavat
- D) Tekbir - Tesbih

4. Zengin olan kim ise,

Bir de fakir var ise,

Malından ona verir ise,

'Vardır hakkı' der ise,

Açılır kapıları cennetin.

Bu dizelerde aşağıdakilerden hangisinin yapılması teşvik edilmektedir?

- A) Namaz kılmak
- B) Meleklerle iman etmek
- C) Kur'an okumak
- D) Zekât vermek

5. Bir arkadaşım kantine sonradan gelmişti. Sıranın önüne geçmek istedi. Ancak bu yaptığının yanlış olduğunu söyledik. O da hatasını anladı ve herkes gibi sıranın sonuna geçti.

Bu metinde uyarılan ve yapılmaması söylenen davranış aşağıdakilerden hangisidir?

- A) Saygısızlık
- B) Nefret
- C) İftira
- D) Laf taşıma

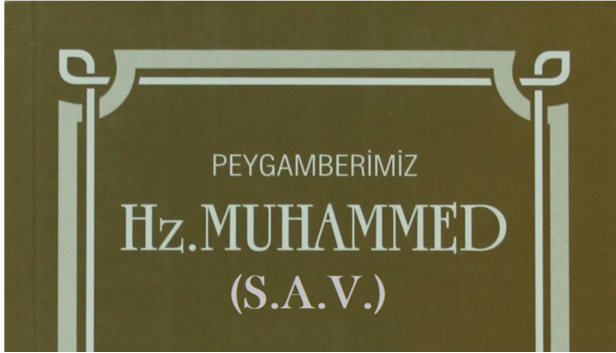
6. "(Allah) su sayesinde sizin için ekinler, zeytinler, hurmalar, üzümler ve diğer meyvelerin hepsinden bitirir. İşte bunlarda düşünen bir toplum için büyük bir ibret vardır." (Nahl suresi, 11. ayet)

"O, taze et yemeniz ve takınacağınız süs eşyası çıkarmanız için denizi sizin hizmetinize verendir. Gemilerin orada suyu yara yara gittiğini görürsün. (Bütün bunlar) O'nun lütfundan nasip aramanız ve şükretmeniz içindir." (Nahl suresi, 14. ayet)

Verilen ayetlere göre aşağıdakilerden hangisi söylenemez?

- A) Allah, bizim için pek çok nimet yaratmıştır.
B) Verdiği nimetlere karşılık Allah'a şükretmeliyiz.
C) Evrendeki düzenin kendiliğinden oluştuğuna inanmalıyız.
D) Bize nimet verenin Allah olduğunu unutmamak gerekir.

7.



Görseldeki kitap kapağında Peygamberimizin adından sonra açılımı "Sallallahu aleyhi ve sellem" şeklinde olan bir kısaltma yer almaktadır.

Buna göre bu kitap kapağında aşağıdakilerden hangisi yer almıştır?

- A) Tekbir
B) Hamdele
C) Salavat
D) Kelime-i şehadet

8. Kur'an-ı Kerim'de, uzunlukları birbirinden farklı 114 yer alır. Onların her birinde de farklı sayıda bulunur. Ayrıca özellikle hafızlık yapmak isteyenler için kolaylık sağlayan bir bölümlendirme şekli de vardır. Her 20 sayfanın bir olarak kabul edildiği bu şekle göre Kur'an-ı Kerim'de onlardan da 30 adet yer alır.

Metindeki boş bırakılan yerlerden birine aşağıdakilerden hangisi getirilemez?

- A) Sure
B) Mushaf
C) Ayet
D) Cüz

9. "Birbirinizi çekememezlik gibi kötü huylara kapılmayınız. Öfke ve hıncınızı birbirinizden çıkarmaya kalkmayınız. Birbirinizin ayıplarını araştırmayınız. Başkalarının konuştuklarına kulak kesilmeyiniz... Ey Allah'ın kulları! Kardeş olunuz!" (Müslim)

Bu hadisin söyleniş amacı ile ilgili aşağıdakilerden hangisi yanlıştır?

- A) Daha huzurlu bir toplum olunması amaçlanmıştır.
B) Birlik ve beraberliğe vurgu yapılmıştır.
C) Düşmana karşı cesaretli olma övülmüştür.
D) Özel hayata saygının önemine işaret edilmiştir.

10. Peygamberimizin dünyaya geldiği dönemde Mekke'de pek çok kimse putlara tapıyordu. Allah'ın varlığını kabul ediyorlar ancak putların Allah'ın ortakları olduğuna inanıyorlardı.

Buna göre Mekke'deki putperestlerin inancı aşağıdakilerden hangisiyle adlandırılmaktadır?

- A) Şirk
B) Nifak
C) Gıybet
D) Rüşvet

Sınav sona ermiştir. Cevaplarınızı kontrol etmeyi unutmayınız.

