



## 4. Sınıf Deneme Sınavı - 3 -



ADI :  
SOYADI :  
SINIFI :  
NO :



Muhammet ÖZENÇ  
2019

1 ) **Aşağıdaki sözcükler alfabetik sıraya göre dizildiklerinde, hangisi son sırada yer alır?**

- A) Matkap                      B) Mantar  
C) Makarna                    D) Makinist

2 ) **Aşağıdaki cümlelerden hangisinde "yol" kelimesi farklı anlamda kullanılmıştır?**

- A) Bu sorunun farklı çözüm yolu var.  
B) Dayımlara giderken de bu yolu kullanmıştık.  
C) Kuşun tüyleri yola düşmüş.  
D) Kutular yola dökülmüş.

3 ) **Aşağıdakilerden hangisinde "perde" kelimesi terim anlamda kullanılmıştır?**

- A) Annesi perdeleri yıkayıp ütölemiş  
B) Tiyatro gösterisinin son perdesi çok beğenildi.  
C) Sokaktan gelen sesleri duyunca perdeyi araladı.  
D) Perdedeki lale motifleri çok güzel görünüyor.

4 ) **Aşağıdaki seçeneklerden hangisinde eşsesli kelimeler bir arada kullanılmıştır?**

- A) Eda, gömleğin düğmesini dikti  
B) Çayın yanına gidip çaydan balık tuttuk.  
C) Yüz tane ördek derede yüzüyor.  
D) Gül bahçesinden gül topladık.

5 ) **Aşağıdakilerden hangisinde "göz" kelimesi "birinin sevgisini yitirmek, değersizleşmek" anlamında kullanılmıştır?**

- A) Bu çocuğa göz kulak olmalıyım.  
B) Yaptığı hataya hiç göz yumulmadı.  
C) Söylediği yalanlar yüzünden gözden düştü.  
D) Kısa zamanda onun gözüne girdi.

6 ) "Pazarda, satıcılar sebze ve meyve satıyorlar."

**Yukarıdaki cümlede aşağıdaki sorulardan hangisinin cevabı yoktur?**

- A) Kim                              B) Nerede  
C) Ne                                D) Nasıl

7 ) Mart ayı geldiğinde bağlar ve bahçelerin bakım vakti de gelmiş olur. Ağaçlar budanırlar bir güzel. Dipleri çapalanır, bakımları bir güzel yapılır. Bu bakımları yapmazsan eğer, ağaçlar az meyve verirler.

**Yukarıdaki metnin konusu aşağıdakilerden hangisi olabilir?**

- A) Meyve toplama zamanı.  
B) Bağ ve bahçe bakımı.  
C) Ağaçlara hangi ilaçlar atılır.  
D) Bahar mevsimi.

8 ) "(1)Bu sabah randevum vardı. (2)Ama dün gece çok geç yattığım için sabah kalkamadım. (3)Yine de randevu yerine gittim. (4)Arkadaşım orda yoktu.

**Bu metinde numaralandırılmış cümlelerin hangisinde sebep-sonuç ilişkisi vardır?**

- A) 1                      B) 2                      C) 3                      D) 4

1. herkes  
2. yaptığın  
3. beğendi  
4. konuşmayı  
5. haftaki  
6. geçen

9 ) **Numaralanmış sözcükler anlamlı ve kurallı bir cümle oluşturmak için nasıl sıralanmalıdır?**

- A) 6 - 5 - 2 - 1 - 3 - 4  
B) 2 - 4 - 6 - 5 - 1 - 3  
C) 6 - 5 - 2 - 4 - 1 - 3  
D) 6 - 5 - 1 - 2 - 3 - 4

10 ) **Aşağıdaki cümlelerin hangisinde benzetme yapılmamıştır?**

- A) Gözleri zeytin gibi siyah.
- B) İnci gibi güzel yazısı var.
- C) Çok zayıflamış kürdan gibi olmuş
- D) Hasta olduğu için gelememiş.

11 ) "Bahçeye yaptığımız kardan adam eridi çünkü ....."

**Yukarıdaki cümle hangisiyle devam ettirilebilir?**

- A) süpürgesi yere düştü.
- B) kimse ona yemek vermedi.
- C) atkısı yoktu.
- D) havalar ısındı.

Okunan kitap sayıları	
Ahmet	10
Melis	18
Alperen	11
Ezgi	14

12 ) **Yukarıdaki tabloya göre aşağıdaki ifadelerden hangisi doğru değildir?**

- A) Erkekler kızlardan daha çok kitap okumuşlardır.
- B) Ahmet, Ezgi' den dört kitap daha az okumuştur.
- C) En az kitabı Ahmet okumuştur.
- D) En çok kitabı Melis okumuştur.

13 ) "Sadece Türkiye'de değil, dünya çapında üne sahip olan bu büyük ve güçlü köpekler, temel olarak Anadolu'da koyunları korumak için yetiştirilmektedir. Çalışkan bir ırk olan Anadolu Çoban Köpeği ya da Türkiye'deki popüler ismi ile Kangal yaz mevsiminin yüksek sıcaklarından kış mevsiminin dondurucu soğuklarına kadar zor iklim koşullarında görevini başarıyla yerine getirir."

**Yukarıdaki metinde hangi sorunun cevabı yoktur?**

- A) Kaç yaşına kadar yaşarlar?
- B) Türkiye' deki popüler ismi nedir?
- C) Hangi iklim şartlarında yaşayabilir?
- D) Bu köpekler hangi amaçla yetiştirilmektedir?

14 ) "Ben bir içeceğim. Misafir gelse ikram edilirim. Beni içmeyi çok sever insanlar. En çok sıcak severler. İyi yapıldı mı tavşan kanı derler."

**Bu metinde konuşan hangisidir?**

- A) Kola
- B) Pasta
- C) Çay
- D) Limonata

15 ) "Ahmet, okulların açılmasını sabırsızlıkla bekliyordu. arkadaşlarına kavuşacak olmanın heyecanı vardı. Babasının yeni aldığı okul malzemelerini oturma odasına götürdü ve onları halının üzerine sıraladı. Fark etti ki istediği bir şey eksikti. En çok istediği şey olan melodika."

**Aşağıdakilerden hangisi bu metnin başlığı olabilir?**

- A) Okulda Bir Gün
- B) Ahmet ile Arkadaşları
- C) Baharın Gelişi
- D) Okula Hazırlık

16 ) "(1)Çocuk parkta oturmuş gökyüzünü izliyordu. (2)Gökyüzünde uçan bir at gördü. (3)Gözlerine inanamadı. (4)Tekrar baktı ama bir şey göremedi."

**Bu metinde numaralandırılmış cümlelerden hangisinde bir hayal ürünü ifade bulunmaktadır?**

- A) 1      B) 2      C) 3      D) 4

17 ) "Sıra" kelimesi hangi seçenekte farklı bir anlamda kullanılmıştır?

- A) Kantinden simit almak için sıraya girdim.  
B) Kitabımı sıranın altına koydum.  
C) Törende sınıf olarak sıra olduk.  
D) Beden dersinde ikiyeşerli sıra olduk.

18 ) Gökyüzünde güneş parlıyor  
Göçmen kuşlar geri dönüyor  
Ağaçlar çiçeklerini açıyor  
İçimize bir sevinç doluyor.

**Yukarıdaki şiirde hangi duygu vardır?**

- A) Sevinç      B) Öfke  
C) Korku      D) Sıkıntı

19 ) **Aşağıdaki cümlelerden hangisinde zıt anlamlı kelimeler aynı cümlede kullanılmıştır?**

- A) Benim yüzümde ben var.  
B) Kırmızı beyaz bayrağımız.  
C) Zor günlerimiz oldu.  
D) Tok açın halinden bilmez.

20 ) Okula gidelim mi ( )  
Tamam gidelim ( )  
Saat 08( )30( ) da orda olalım( )

**Yukarıdaki metinde sırasıyla hangi noktalama işaretleri kullanılmalıdır?**

- A) ? : . . .  
B) ? . . : .  
C) ? . . ' .  
D) ? . . ' ?

21 ) **Aşağıdakilerden hangisinde ayrı yazılması gereken "de" bitişik yazılmıştır?**

- A) Ala Dağlar da çok yüksek bir dağımızdır.  
B) Eve geldiklerinde çok geç olmuştu.  
C) Evde, okulda büyüklerine saygılı davranmalısın.  
D) Sabah erken uyanmadı, yataktanda kalkmadı.

22 ) **Aşağıdaki cümlelerin hangisinde "de - da" ayrı yazılması gerekmektedir?**

- A) Bütün param evde kaldı.  
B) Televizyonda en sevdiğim dizi başladı.  
C) Yarınki toplantıya sende katıl.  
D) Akşama kadar salonda oturduk.

23 ) Dondurmasıyla ünlü olan bir şehrimiz vardır ( ) Kahramanmaraş.  
**Yukarıda yay ayraç ile belirtilen yere hangi noktalama işareti getirilmelidir?**

- A) .      B) :      C) ?      D) !

24 ) "Başarmak için çaba göstermelisin."

**Yukarıda altı çizili kelimenin yerine hangisini koyarsak cümlenin anlamı değişmez?**

- A) gayret      B) yetenek  
C) çalışmak      D) kolaylık

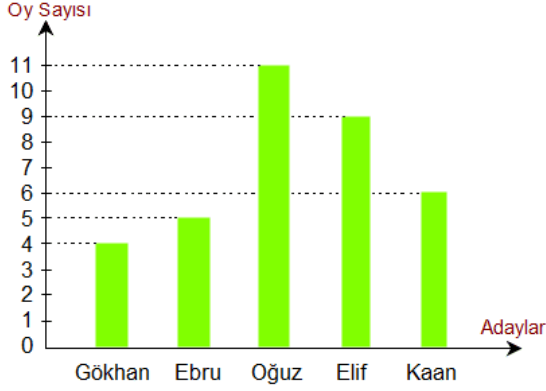
25 ) "Yolda giderken ayağıma taş takıldı."

**Aşağıdaki cümlelerden hangisi yukarıdaki cümle ile eşsesli olan bir cümledir?**

- A) Bu kazın tüyleri yolunmuş.  
B) Araba yoldan çıkmış.  
C) Evin önündeki yolda çocuklar oynuyor.  
D) Yol kenarına park etmiş üç araba var.

1 ) 2018 yılı verilerine göre Bayburt ilinin nüfusu " seksen iki bin iki yüz yetmiş dört " kişidir. Buna göre Bayburt' un nüfusu hangisidir?

- A) 80274                      B) 82274  
C) 8274                        D) 822274



2 ) Yukarıda bir sınıfta yapılan sınıf başkanlığı seçimlerini gösteren bir sütun grafiği verilmiştir. Bu grafiğe göre en fazla oyu kim almıştır?

- A) Elif                              B) Oğuz  
C) Kaan                            D) Ebru

3 ) Her birinin içerisinde 50 kg şeker olan 3 çuval şeker, 5' er kiloluk torbalara doldurulup her torba da 19 TL ye satılırsa toplam ne kadar para kazanılır?

- A) 30 TL                        B) 370 TL  
C) 570 TL                      D) 470 TL

4 ) Her gün 95 dakika yürüyüş yapan Damla, bir haftada ne kadar süre yürüyüş yapmış olur?

- A) 102 dakika                B) 11 saat  
C) 11 sa 10 dk                D) 11 sa 05 dk

İnek	
Ördek	
Tavuk	
Koyun	

NOT : Her şekil 2 hayvanı göstermektedir.

5 ) Yukarıdaki tabloya göre inekler ve koyunların toplamı kaçtır?

- A) 11                      B) 7                      C) 14                      D) 22

$$\frac{1}{11} + \frac{3}{11} + \frac{5}{11} = ?$$

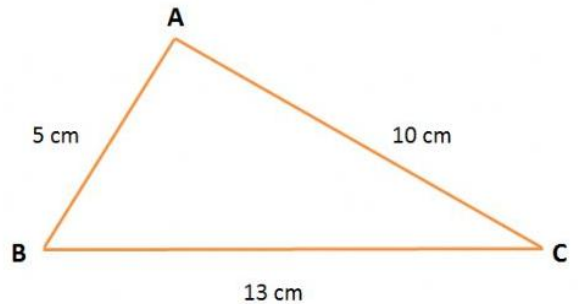
6 ) Yukarıdaki işlemin sonucu aşağıdakilerden hangisidir?

A)  $\frac{9}{11}$

B)  $\frac{8}{11}$

C)  $\frac{7}{11}$

D)  $\frac{10}{11}$



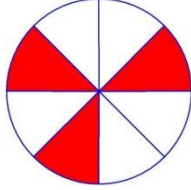
7 ) Yukarıdaki üçgenin en uzun kenarı hangisidir?

- A) AB kenarı                      B) BC kenarı  
C) CA kenarı                      D) BA kenarı

8 ) Kadir, düğünü için bastıracağı 350

tane davetiyenin  $\frac{5}{7}$  sini dağıttı, Kadir' in daha dağıtması gereken kaç davetiyesi kalmıştır?

- A) 50                      B) 250  
C) 100                     D) 150




9 ) Yukarıdaki şekil hangi kesri göstermektedir?

- A)  $\frac{4}{8}$                       B)  $\frac{5}{8}$   
C)  $\frac{3}{8}$                       D)  $\frac{6}{8}$

10 ) 132 sayısının  $\frac{7}{11}$  sinin 43 katı kaçtır?

- A) 12                      B) 3512  
C) 84                      D) 3612

11 )  Saatte 85 km hızla giden bir araba 4 saat sonra kaç km yol gitmiş olur?

- A) 340 km                B) 170 km  
C) 330 km                D) 89 km

$$\begin{array}{r} 13A \\ \times B7 \\ \hline 917 \\ + 262 \\ \hline C537 \end{array}$$

12 ) Yukarıdaki işleme göre

$$\frac{A}{C} + \frac{B}{C} = ?$$

- A) Üç bölü üç  
B) Dört bölü üç  
C) İki bölü üç  
D) Üç bölü iki

13 ) Bir pille 8 saat çalışabilen bir kumandalı arabayla günde 20 dk oynayan Ahmet, kumandalı arabasının pili bitene kadar kaç gün oyun oynayabilir?

- A) 28                      B) 24  
C) 480                     D) 32

14 ) Bir kümeste bir horoz ve 7 tavuk var ve her tavuğun da 7 şer civ civi vardır. Bu kümeste toplam kaç tane hayvan vardır?

- A) 15                      B) 56  
C) 57                      D) 49

15 ) Bir sınıfta 12 sıra bulunmaktadır. Öğrenciler sıralara 3' er kişi oturduğunda 3 sıra boş kalıyor. Bu sınıfın mevcudu kaçtır?

- A) 15                      B) 18  
C) 27                      D) 36



$$\frac{2}{3} \quad \frac{2}{7} \quad \frac{2}{4} \quad \frac{2}{5}$$

16 ) Yukarıdaki kesirli sayıların küçükten büyüğe doğru sıralanışı hangisidir?

- A)  $\frac{2}{7} < \frac{2}{3} < \frac{2}{4} < \frac{2}{5}$   
 B)  $\frac{2}{7} < \frac{2}{5} < \frac{2}{4} < \frac{2}{3}$   
 C)  $\frac{2}{3} < \frac{2}{7} < \frac{2}{5} < \frac{2}{4}$   
 D)  $\frac{2}{3} < \frac{2}{4} < \frac{2}{5} < \frac{2}{7}$

17 ) Melis, doğum günü pastasının  $\frac{3}{12}$  sini babasına,  $\frac{1}{12}$  sini annesine ve  $\frac{2}{12}$  sini kendisi yediğine göre, geriye ne kadar pasta kalmıştır?

- A)  $\frac{6}{12}$                       B)  $\frac{5}{12}$   
 C)  $\frac{3}{12}$                       D)  $\frac{4}{12}$

$$(27 \times 14) \div 9 = ?$$

18 ) Yukarıdaki işlemin sonucu kaçtır?

- A) 42                      B) 52  
 C) 32                      D) 41

19 ) 383 tane fındık 8 öğrenci arasında paylaştırıldığında kaç tane fındık artar?

- A) 3                      B) 5  
 C) 7                      D) 4

$$\begin{array}{r} 245 \quad | \quad 5 \\ \hline A \end{array} \quad \begin{array}{r} 32 \\ \times A \\ \hline ? \end{array}$$

20 ) Yukarıdaki işlemlerde soru işaretli yere hangi sayı gelmelidir?

- A) 49                      B) 1568  
 C) 1468                      D) 1668



21 ) Ceren, film izlemeye başladığında saat 10.09' u göstermekteydi. Film 112 dk sürdüğüne göre, film bittiğinde saat kaçtır?

- A) 11.51                      B) 10.51  
 C) 11.42                      D) 09.09

$$2 - 5 - 4 - 7 - 6 - 9 - 8 - 11 - ?$$

22 ) Yukarıdaki örüntüde soru işaretli yere hangi sayı gelmelidir?

- A) 14                      B) 15  
 C) 12                      D) 10

23 ) Can 60 lirasının  $\frac{2}{5}$  sini harcadıktan sonra kalanını kumbarasına atıyor. Can kumbarasına ne kadar para atmıştır?

- A) 36 TL                      B) 24 TL  
C) 12 TL                      D) 48 TL

24 ) Ece, 2 saat 10 dakika süresi olan bir filmi hiç ara vermeden izlemiştir. Film sona erdiğinde saat 19.45 olduğuna göre Ece filmi saat kaçta izlemeye başlamıştır?

- A) 21.55                      B) 18.35  
C) 20.55                      D) 17.35

25 ) 2 Yıl + 7 hafta kaç gün eder?

- A) 769                      B) 779  
C) 730                      D) 789

## FEN BİLİMLERİ

1 ) "Dünya" nın en dış kısmında bulunan, görünen kısmına ..... denir." Yukarıdaki boşluğa hangisi gelmelidir?

- A) Yer kabuğu                      B) Kayaç  
C) Maden                      D) Atmosfer

2 ) Ders çalışırken sağ elini kullanan bir öğrenci için ışığın hangi taraftan gelmesi en uygundur?

- A) Sol taraftan                      B) Yukarıdan  
C) Sağ taraftan                      D) Aşağıdan



I

Floresan



II

Meşale



III

Gaz lam.



IV

Kandil

3 ) Yukarıdaki aydınlatma araçlarının teknolojik olarak gelişim sırası hangi seçenekte doğru verilmiştir?

- A) II - III - IV - I  
B) II - IV - III - I  
C) IV - II - III - I  
D) III - II - I - IV



3350 mL

4 ) Yukarıdaki fanusun içinde 3 litre su varken içine balıklar bırakılıyor. Yukarıda görüldüğü gibi suyun seviyesi 3350 mL ye yükseliyor. Buna göre balıkların hacmi kaç mL dir?

- A) 3350 mL                      B) 3700 mL  
C) 350 mL                      D) 2650 mL

I. Tereyağın sıvı hale gelmesi.

II. Askıdaki çamaşırların kuruması.

5 ) Yukarıdaki hal değişim örnekleri hangi seçenekte doğru verilmiştir?

- I.                      II.  
A) Donma                      Buharlaştırma  
B) Erime                      Donma  
C) Erime                      Buharlaştırma  
D) Buharlaştırma                      Erime





Su



Ayran



Salata

6 ) Yukarıda verilen örnekler saf madde ve karışım olarak sınıflandırılırsa hangi seçenek doğru olur?

- A) Saf - Saf - Karışım
- B) Saf - Karışım - Saf
- C) Karışım - Karışım - Karışım
- D) Saf - Karışım - Karışım

I . Talaş ve demir tozu karışımı.

II. Tuzlu su

III. Çakıl taşı ve kum karışımı.

7 ) Yukarıdaki karışımları hangi seçenekteki yöntemler doğru bir şekilde ayırır?

- A) Süzme - Buharlaştırma - Eleme
- B) Miknatıs - Buharlaştırma- Eleme
- C) Eleme - Süzme - Miknatıs
- D) Miknatıs - süzme - Eleme

8 ) "Sıcaklığı ..... ile ölçeriz."

Yukarıdaki boşluğa hangisi gelmelidir?

- A) Terazi
- B) Termometre
- C) Barometre
- D) Dinamometre



9 ) Yukarıdaki kavram haritasındaki I ve II numaralı yerlere hangisi yazılmalıdır?

- |              |               |
|--------------|---------------|
| I.           | II.           |
| A) Donma     | Uçmak         |
| B) Sertleşme | Buharlaştırma |
| C) Donma     | Buharlaştırma |
| D) Erime     | Donma         |

10 ) "Sıvı bir maddenin ısı vererek katı hale geçmesine ..... denir." Yukarıdaki boşluğa hangisi gelmelidir?

- A) Yoğuşma
- B) Buharlaştırma
- C) Erime
- D) Donma

11 ) "Melis, mutfaktan bir bardak aldı ve bardağa biraz limonata koydu. Salona geçti limonatasını içerken elinden kaydı ve yere döküldü." Bu hikayede hangi tür maddelere örnek verilmemiştir?

- A) Karışım
- B) Sıvı
- C) Katı
- D) Gaz

### MADDENİN HALLERİ



12 ) Yukarıdaki kavram haritası örneklerle tamamlanmak isteniyor. Hangi seçenek doğru olur?

- |              |        |        |
|--------------|--------|--------|
| I.           | II.    | III.   |
| A) Taş       | Ayran  | Buhar  |
| B) Bardak    | Sünger | Duman  |
| C) Su        | Süt    | Parfüm |
| D) Doğal gaz | Çay    | Buhar  |

I. Gölge bir maddedir.

II. Sıvı haldeki maddelerin kütlesi yoktur.

III. Dereceli silindir hacim ölçme araçlarından biridir.

IV. Süt sıvı maddelere örnektir.





13 ) Yukarıdaki bilgilerden hangisi veya hangileri doğrudur?

- A) III ve IV
- B) I ve II
- C) Yalnız IV
- D) I , II ve IV

14 ) Thomas Edison' un icat ettiği hangisidir?

- A) Mum
- B) El feneri
- C) Ampül
- D) Floresan lamba

15 ) Aşağıdaki maddelerden hangisi hem suyu emer, hem de mıknatıs tarafından çekilmez?

- A)  Toplu iğne
- B)  plastik leğen
- C)  şişe
- D)  sünger

Besin çeşiti	Bulunduğu yiyecek	Vücuttaki görevi
I.	Zeytin, ceviz	Enerji verici
II.	Et, süt, yumurta	Yapıcı onarıcı

16 ) Yukarıdaki tabloya göre I ve II numaralı yere hangi seçeneklerde yazılmalıdır?

- I.
- A) Karbonhidrat
- B) Yağ
- C) Vitamin
- D) Protein
- II.
- A) Mineral
- B) Protein
- C) Protein
- D) Karbonhidrat

- I. Plastik top
- II. Taş parçası
- III. Anahtar
- IV. Kalem





17 ) Yukarıdaki maddelerden hangisi veya hangileri suya atıldığında batar?

- A) Yalnız II
- B) II ve III
- C) I ve IV
- D) III ve IV





18 ) Aşağıdakilerden hangisinde mıknatıs kullanılmamaktadır?

- A) 
- B) 
- C) 
- D) 

19 ) Aşağıdakilerden hangisine kuvvet uygulandığında kalıcı şekil değişikliğine sebep olur?

- A)  paket lastiği
- B)  oyun hamuru
- C)  sünger
- D)  cam şişe

20 ) Aşağıdaki mıknatıs düzeneklerinden hangisindekinin yönü yanlıştır?

- A)  İter
- B)  Çeker
- C)  İter
- D)  İter

21 ) "Hakan'ın üzerine gelen topu tokatlayarak kornere yollaması" Nasıl bir etkidir?

- A) Şekil değiştirici
- B) Durdurma
- C) Hızlandırıcı
- D) Yön değiştirici

22 ) "Ahmet, sabah kahvaltısında yumurta, peynir, zeytin yemiş içecek olarak da süt içmiştir."

**Ahmet' in kahvaltısında yediği besinlerin içerikleri hangi seçenekte doğru sıralanmıştır?**

- A) Karbonhidrat - protein - yağ - mineral  
 B) Protein - yağ - mineral - yağ  
 C) Protein - protein - yağ - protein  
 D) Yağ - protein - yağ - karbonhidrat

23 ) **Aşağıdaki verilen bilgilerden hangisi doğru değildir?**

- A) Dünya, Güneş etrafındaki turunu 365 günde tamamlar.  
 B) Ay bir ışık kaynağıdır.  
 C) Dünya' nın kendi etrafında dönmesiyle gece gündüz oluşur.  
 D) Dünya' nın Güneş etrafında dönmesiyle mevsimler oluşur.

24 ) **Aşağıdakilerden hangisi altın madenin kullanım alanlarından biri değildir?**

- A) Uçak yakıtı  
 B) Süs eşyası yapımı  
 C) Dişçilikte  
 D) Kuyumculukta



Muz



Et

25 ) **Yukarıdaki yiyeceklerin besin içerikleri hangi seçenekte doğru verilmiştir?**

**Muz**

**Et**

- A) Protein Vitamin  
 B) Vitamin Karbonhidrat  
 C) Vitamin Protein  
 D) Yağ Protein

1 ) "Öğretmenimiz derste bir konu belirledi ve hep birlikte tartışalım dedi. Arkadaşlarımızdan düşüncesini ifade etmek isteyen herkese de söz hakkı verdi."

**Buna göre öğretmen öğrencilerin hangi haklarını kullanmalarına ortam hazırlamıştır?**

- A) Eğitim B) İfade özgürlüğü  
 C) Seyahat D) Yaşama

2 ) **Aşağıdakilerden hangisi insanların doğal ortamda yaptığı değişikliklere örnek olabilir?**

- A) Manyas Gölü' ndeki kuşların korunması.  
 B) Ceyhan Nehri' nin üzerine baraj yapılması.  
 C) Ormanlık alandaki çöplerin toplanması.  
 D) Sokak hayvanları için sokağa su bırakılması.

3 ) **Aşağıdaki ifadelerden hangisi bilinçli bir tüketiciye ait olamaz?**

- A) Alışverişe çıkmadan önce ihtiyaç listesi yaparım.  
 B) Alışverişlerimde mutlaka fiş alırım.  
 C) İndirimli ürünleri ihtiyacım olmasa da alırım.  
 D) Ürünlerin son kullanma tarihlerine bakırım.

4 ) **Aşağıdaki ürünlerden hangisinin garanti belgesi olur?**



A)

Zeytin



B)

Çikolata



C)

Süt



D)

Fotoğraf makinesi

5 ) Aşağıdaki mesleklerden hangisi sağlık alanında çalışmaktadır?

- A) Öğretmen B) Polis  
C) Pilot D) Hemşire



6 ) Yukarıdaki görselde verilen ekonomik faaliyet hangisidir?

- A) Arıcılık B) Turizm  
C) İnşaat D) Madencilik

7 ) Aşağıdakilerden hangisi teknolojinin sağladığı kolaylıklardan biri değildir?

- A) İşlerimizi kolaylaştırmıştır.  
B) Vücut sağlığımızı olumsuz etkilemiştir.  
C) İşlerimizi hızlandırmıştır.  
D) Hastalıkların tedavisini kolaylaştırmıştır.

- I. Tansiyon aleti  
II. Steteskop  
III. Projeksiyon  
IV. Röntgen cihazı

8 ) Yukarıdaki aletlerden hangisi farklı bir alanda kullanılmaktadır?

- A) I B) II C) III D) IV

9 ) Aşağıdakilerden hangisi beşeri unsurlardandır?

- A) Ağrı Dağı  
B) Van Gölü  
C) Karahisar Kalesi  
D) Seyhan Nehri

10 ) Aşağıdakilerden hangisi deprem öncesinde alınması gereken önlemlerden biridir?

- A) Asansörleri kullanmamak.  
B) Hasarlı binalardan uzak durmak.  
C) Elektrik ve su vanalarını kapatmak.  
D) Deprem çantası hazırlamak.



11 ) Yukarıdaki sembol hangi anlamı gelmektedir?

- A) Parçalı bulutlu  
B) Yağmurlu  
C) Güneşli  
D) Çok bulutlu

12 ) Aşağıdaki verilen bilgilerden hangisi yanlıştır?

- A) Güneş kuzeyden doğar, batıdan batar.  
B) Dört tane ana yön vardır.  
C) Yönlerin belirlenmesinde Güneş'in doğuş ve batışından faydalanılır.  
D) Kutup yıldızı kuzeyi gösterir.

13 ) Ülkemizin güneyinde hangi deniz bulunmaktadır?

- A) Ege B) Akdeniz  
C) Karadeniz D) Marmara

14 ) Aşağıdakilerden hangisi milli kültürümüzü yansıtan ev eşyalarımızdandır?



A)



B)



C)



D)

15 ) M. Kemal ATATÜRK' ün Kurtuluş Savaşı' nı başlattığı yer neresidir?

- A) Eskişehir B) Erzurum  
C) Samsun D) İzmir

16 ) M. Kemal ATAÜRK' e mareşal rütbesinin verildiği savaş hangisidir?

- A) II. İnönü Savaşı  
B) Sakarya Savaşı  
C) Trablusgarp Savaşı  
D) I. İnönü Savaşı

17 ) Bir aile veya sülalenin geçmişten günümüze bütün üyelerinin sıralandığı. En eski üyelerin üstte bulunduğu sıralamaya ne denir?

- A) Kültür B) Albüm  
C) Tarih D) Soyağacı

18 ) "Bülent, 4. sınıfa gitmektedir. Bülent orta boylu ve zayıftır. Zeki, dost canlısı ve sevecen bir çocuktur. Futbol oynamayı çok sever."

Yukarıdaki bilgilere göre Bülent' in hangi özelliklerinden bahsedilmektedir?

- A) Yeteneklerinden  
B) Fiziksel özelliklerinden  
C) Duygusal özelliklerinden  
D) İlgili alanlarından

- I. Parmak izleri  
II. Göz rengi  
III. Ses tonumuz  
IV. Yaşımız

19 ) Yukarıdaki özelliklerden hangileri kişiye özeldir?

- A) IV B) II ve III  
C) I ve III D) I ve IV

20 ) Aşağıdakilerden hangisi temel ihtiyaçlarımızdan biri değildir?

- A) Barınma B) Seyahat etme  
C) Beslenme D) Yaşama



21 ) Yukarıdaki boşluğa hangisi gelmelidir?

- A) Zekat vermek  
B) Dua etmek  
C) Umre yapmak  
D) Selam vermek

22 ) "Hiçbir anne baba, çocuğuna güzel terbiyeden daha kıymetli ve üstün bir miras bırakamaz. (Tirmizi)"

Yukarıdaki hadise göre anne babanın evladına bırakacağı en değerli şey hangisidir?

- A) Maddi destek B) Yeni kıyafet  
C) Bol para D) Güzel ahlak



23 ) Görsellerde belirtilen ibadetler hangi seçenekte doğru verilmiştir?

- A) Namaz kılmak - Hacca gitmek  
B) Namaz kılmak - Oruç tutmak  
C) Zekat vermek - Hacca gitmek  
D) Oruç tutmak - Zekat vermek

24 ) Hz. Muhammed' e (s.a.v.) olan sevgimizi ve saygımızı göstermek için kullandığımız dua ifadelerine ne denir?

- A) Sevap B) Tekbir  
C) Besmele D) Salavat

25 ) Peygamber efendimiz nerede dünyaya gelmiştir?

- A) Medine B) Şam  
C) Riad D) Mekke

Sınavınız Bitmiştir.