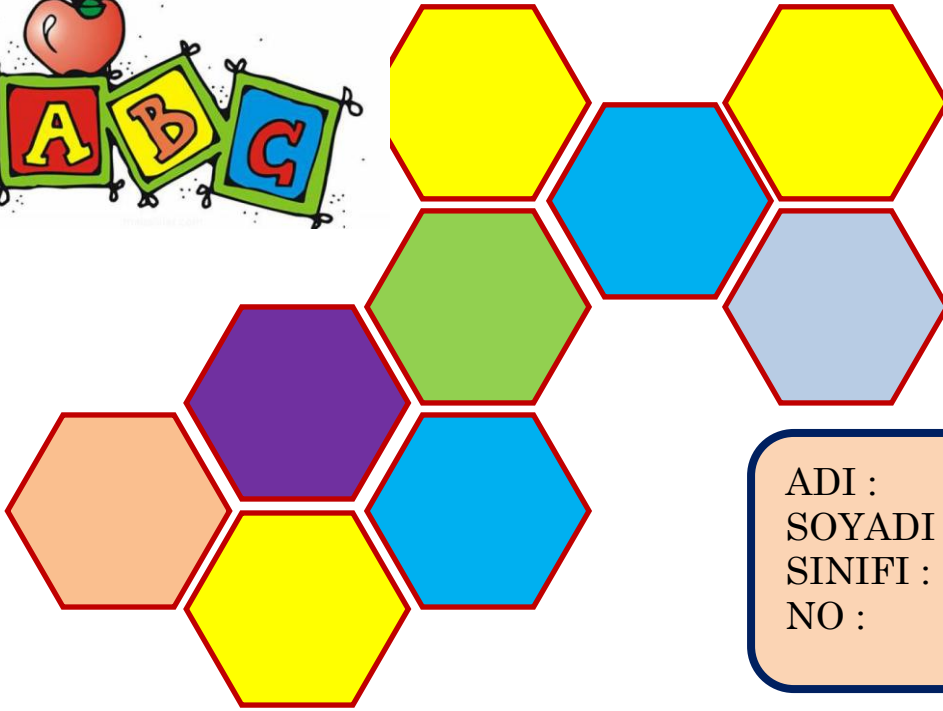



4. Sınıf 4. Deneme Sınavı



ADI :
SOYADI :
SINIFI :
NO :



Muhammet ÖZENÇ
2019

Keresteci

1) Aşağıdaki kelimelerden hangisi, yukarıdaki kelime ile aynı hece sayısına sahiptir?

- A) Buzdolabı B) Çiftlik
C) Çaydanlık D) Ayakkabılık

Diş: 1. Çene kemiklerinin üstüne dizilmiş olan, ısırıp koparmaya ve çiğnemeye yarayan, ak renkli, küçük, sivri ve sert organların her biri.

2. Tane.

2) Yukarıda diş kelimesinin iki anlamı verilmiştir. Aşağıdaki cümle örneklerinden hangisi, diş kelimesinin ikinci anlamına örnektir?

- A) Yemeğe iki diş sarımsak koy.
B) Süt dişlerimden biri düştü.
C) Şekeri çok yersek dişimiz çürür.
D) Annem dişini çektirdi.

3) Aşağıdaki cümlelerden hangisinde " yol " kelimesi farklı bir anlamda kullanılmıştır?

- A) Bu sabah yol çok kalabalıktı.
B) Bu soruyu çözmeyen bir yolu daha var.
C) Yola bir ağaç devrilmiş.
D) Yoldan karşıya geçerken dikkatli ol.

4) Aşağıdaki ifadelerden hangisinde örneklendirme yapılmıştır?

- A) Rüzgar şapkasını uçurdu.
B) Kedimin gözleri boncuk gibi.
C) Ülkemizin gezilecek çok güzellikleri var; Peri Bacaları, Sümela Manastırı gibi.
D) Sulanmadığı için çiçekler kurumuş.

5) "Geçmek" sözcüğü hangi cümlede "tüketmek, sona ermek" anlamında kullanılmıştır?

- A) Hastalık arkadaşından geçmişti.
B) Çocuğun boyu babasını geçti.
C) Bu isteği zamanla geçer.
D) Atatürk yaptıklarıyla tarihe geçti.

- 1- liseden
2- Yıllar
3- sonra
4- buluşacağız
5- arkadaşlarla

6) Yukarıda karışık olarak verilen kelimeler ile düzenli bir cümle oluşturmak istenirse hangi seçenek doğru olur?

- A) 2 - 3 - 5 - 1 - 4
B) 1 - 2 - 3 - 4 - 5
C) 5 - 2 - 3 - 1 - 4
D) 2 - 3 - 1 - 5 - 4

Zarafet ve etkileyicilik denilince çiçeklerden ilk orkideler gelir akla. Tabii orkidelerin bakımı da pek kolay değil; bunun en önemli sebeplerinden biri de orkidelerin sıradan topraklarda yetişmemeleri. Orkidelerin belirli karışımlarla üretilen geçirgen ve özel toprakları oluyor; eğer orkide yetiştirmeye karar verirsiniz bu toprak karışımını özenle hazırlamanız ya da hazır karışımları satın almanız şart. Orkidelere verilecek su da, toprakları gibi özel olmalı. Oksijen açısından zengin, bayat olmayan, kaliteli bir su ile sulanması gereken orkidelerin sularının sıcaklığı da oda sıcaklığında olmalı. Orkidenin evinizde konumlanacağı yer de hem aydınlık hem de serin bir yer olmalı.

7) Yukarıdaki metinde, aşağıdaki sorulardan hangisinin cevabı yoktur?

- A) Orkidelerin yetiştirileceği toprak nasıl olmalıdır?
B) Dünyada kaç çeşit orkide vardır?
C) Orkidelere verilecek su nasıl olmalıdır?
D) Orkideleri evde koyacağımız yer nasıl olmalıdır?

8) Aşağıdaki sözcüklerden hangisi sözlükte en önce gelir?

- A) Merdiven B) Mercimek
C) Merdane D) Meşale

9) Aşağıdakilerden hangisi bir karşılaştırma cümlesidir?

- A) Koşudan sonra dinlendi.
B) Arabadan aşağı indi.
C) Sağlığım geçen haftadan daha iyi.
D) Bardakları masaya koydum.

10) **Aşağıdakilerden hangisinde bir sebep - sonuç ilişkisi vardır?**

- A) İki günde 4 kilo vermiş.
- B) Arabanın benzini bitmiş.
- C) Akvaryumda balıklar yüzüyor.
- D) Arabanın benzini bittiği için yolda kaldık.

11) **Aşağıdaki cümlelerin hangisinde zıt anlamlı kelimeler bir arada kullanılmıştır?**

- A) Çocuklar parkta akıllı uslu oynuyorlar.
- B) Bu kalemi alıp almamak arasında kaldım.
- C) Bu işe çok fazla talep var.
- D) Geçen hafta galip olan takım bu hafta mağlup oldu.

12) **Aşağıdaki cümlelerden hangisinde gerçek dışı bir durumdan söz edilmektedir?**

- A) Bahçedeki laleler hayata küsmüştü.
- B) Topun havası inmiş.
- C) Mavi pantolonum lekelenmiş.
- D) Kuşlar şu ağaca yuva yapmış.

"Ahmet amca, gözleri iyi görmediği için gözlük takıyormuş."

13) **Yukarıdaki cümlede, hangi sözcüğün yazımında yanlışlık yapılmıştır?**

- A) amca
- B) gözleri
- C) iyi
- D) gözlük

"Mahallemizin bakkalı Murat Amca, çocukları çok severdi. Bakkalına gelen her çocuğa mutlaka şeker ikram ederdi. O mahallede zor durumda olanlara da yardım eder, onların dertlerine derman olurdu. Murat Amca çok zengin değildi belki ama onun gönlü zengindi."

14) **Yukarıdaki cümlede geçen "Derdine derman olmak." deyimine ne anlatılmak istenmektedir?**

- A) Boş vaktini değerlendirmek.
- B) Borç para vermek.
- C) Sorunlara çözüm bulmak.
- D) Sorulara cevap vermek.

"Melis, herkesin çok sevdiği birisiydi. Herkes hakkında olumlu şeyler söyler; birisi ona halini hatırını sorduğunda: "Daha iyi olamazdım." diye cevap verirdi.

15) **Yukarıdaki metne göre Melis' in özelliği aşağıdakilerden hangisidir?**

- A) Kötümser
- B) Şüpheli
- C) Çalışkan
- D) İyimser

16) **Aşağıdaki atasözlerinden hangisi tasarruflu olmayı anlatmaktadır?**

- A) Akılsız başın cezasını ayaklar çeker.
- B) Damlaya damlaya göl olur.
- C) Üzüm üzüm baka baka kararır.
- D) El elden üstündür.

"Gelecek yıl şehrimize lunapark kurulacakmış."

17) **Yukarıdaki cümlede aşağıdakilerin hangisinin cevabı yoktur?**

- A) Ne
- B) Nasıl
- C) Nereye
- D) Ne zaman

"Olimpiyat oyunlarının geçmişi, binlerce yıl önce Eski Yunan'da yapılan festivallere dayanıyor. Bu festivallerden ilki Elis kentindeki Olympia bölgesinde yapılmış. Sonra da gelenek hâline gelmiş."

18) **Yukarıdaki metnin konusu aşağıdakilerden hangisi olabilir?**

- A) Olimpiyatların tarihi
- B) Tarihte oynanan oyunlar
- C) Elis kentinin güzellikleri
- D) Geleneklerimiz.

" Her yerden daha güzel
Bizim için burası.
Okul, sevgili okul
Neşe, bilgi yuvası.

Rakım ÇALAPALA"

19) **Yukarıdaki şiirin ana duygusu hangisidir?**

- A) Anne sevgisi
- B) Kitap sevgisi
- C) Vatan sevgisi
- D) Okul sevgisi

20) **Aşağıdaki eklerden hangisi daima ayrı yazılır?**

- A) de
- B) ki
- C) mi
- D) lük

21) Aşağıdaki cümlelerin hangisinde "de" nin yazımında yanlışlık yapılmıştır?

- A) Problemlerde çözemediğim oldu.
B) Yerde bulduğu parayı öğretmene verdi.
C) Doğruyu söyleyen de sana inanmazlar.
D) Masa da kaç kişilik yer var?

"Türk dili, Türk milletinin kalbidir. Ülkesini, bağımsızlığını korumayı bilen Türk milleti dilini de yabancı dillerin etkisinden kurtarmalıdır."

22) Yukarıdaki metnin ana düşüncesi aşağıdakilerden hangisidir?

- A) Yabancılarla Türkçe öğretmeliyiz.
B) Türkçe ders saati arttırılmalıdır.
C) Türkçemizi korumalıyız.
D) Türkçe öğrenilmesi zor bir dildir.

"Zeynep Hanım, kedisi pamuk için veterinerden randevu almış."

23) Yukarıdaki cümlede hangi numaralı kelimenin yazımında yanlışlık yapılmıştır?

- A) 1 B) 2 C) 3 D) 4

"(1) Kenya'da çocuklarla çalışan bir sivil toplum örgütü harika bir sandalet geliştirmiş. (2) Sıcak iklimlerde giyilmek üzere tasarlanan Sandalet sahibinin ayağı büyüdükçe büyüyor. (3) Peki bu nasıl oluyor? (4) Sandaletin ön ve arka tarafında tabanın uzamasını sağlayan ayarlanabilir bantlar var."

24) Yukarıdaki metinde numaralanmış cümlelerden hangisinde yazım yanlışı yapılmıştır?

- A) 2 B) 4
C) 1 D) 3

" Atatürk saat 09(▲) 05(●) te hayata gözlerini yumdu(♥)"

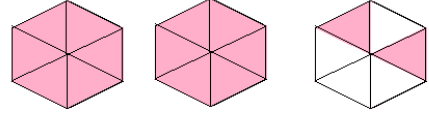
25) Yukarıdaki metindeki " ▲ ● ♥ " sırasıyla hangi noktalama işaretleri getirilmelidir?

- A) (.) (') (.) B) (:.) (') (.)
C) (:.) (.) (.) D) (.) (') (!)

$$\begin{array}{r} \square \\ \square \overline{) 9} \\ \underline{} \\ 14 \end{array}$$

1) Yukarıdaki bölme işleminde bölünen sayı en fazla kaç olabilir?

- A) 126 B) 134
C) 23 D) 96



2) Yukarıdaki kesirli ifade aşağıdakilerden hangisidir?

- A) $\frac{2}{6}$ B) $2\frac{2}{6}$
C) $1\frac{2}{6}$ D) $2\frac{4}{6}$

3) Bir futbol takımı oyuncuları, kısa kenarı 55 metre, uzun kenarı 95 metre olan futbol sahasının etrafında 6 tur koşmuşlardır. Bu futbolcular toplam kaç metre koşmuşlardır?

- A) 150 m B) 300 m
C) 1800 m D) 180 m



4) Samet Amca'nın evi ile ahır arası 65 metredir. Samet Amca her gün sabah ve akşam ahıra günde birer kere gidip gelmektedir. Samet Amca bir haftada sadece ahırına gidip geldiğinde kaç metre yürümüş olur?

- A) 72 m B) 260 m
C) 1720 m D) 1820 m

5) Çevresinin uzunluğu 160 cm olan kare şeklindeki bir kartonun bir kenar uzunluğu kaç santimetredir?

- A) 80 cm B) 40 m
C) 20 cm D) 40 cm

$$\frac{2}{8} + \frac{3}{8} = \frac{\quad}{\quad}$$

6) Yukarıdaki işlemin sonucu kaçtır?

- A) $\frac{5}{8}$ B) $\frac{5}{16}$
C) $\frac{6}{8}$ D) $\frac{1}{8}$

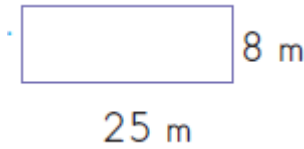
*Otuz bin on dört.

*Otuz bin yüz kırk.

*Otuz bir bin dört yüz.

7) Yukarıdaki okunuşları verilen sayılardan hangisi en büyüktür?





- A) 30140 B) 31400
C) 30014 D) 31040



8) Yukarıdaki gibi dikdörtgen şeklindeki bahçenin etrafına 3 sıra tel çekilecektir. Kaç metre tele ihtiyaç vardır?

- A) 66 m B) 198 m
C) 600 m D) 200 m

9) Aşağıdaki verilenlerden hangisi simetrik değildir?

- A)  B) 
C)  D) 

$$\begin{array}{r} 109 \\ + 395 \\ \hline \end{array} \quad \begin{array}{r} \rightarrow \dots \\ - \dots \\ \hline 4 \\ ? \end{array}$$

10) Yukarıdaki işlemleri sırasıyla yapınca soru işaretli yere gelmesi gereken sayı hangisidir?

- A) 125 B) 504
C) 123 D) 126

11) Ahmet ile Melis, saat 16.30 da en sevdikleri filmi izlemeye başlamışlardır. Film 125 dakika sürdüğüne göre, film bittiğinde saat kaç olmuştur?

- A) 18.35 B) 18.25
C) 18.30 D) 17.35

12) Ayşe, Mine ve Sare üç arkadaştır. Bu üç arkadaş ellerindeki 1 m 80 cm kurdeleyi eşit bir şekilde paylaşmışlardır. Her birine ne kadar kurdele düşmüştür?

- A) 60 cm B) 80 cm
C) 70 cm D) 90 cm

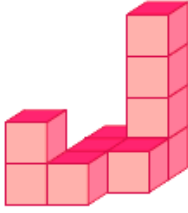
13) Bir kenarı 1800 cm uzunluğundaki kare şeklindeki bir parkın alanı kaç metre karedir?

- A) 3600 cm B) 324 m²
C) 334 m² D) 72 m²



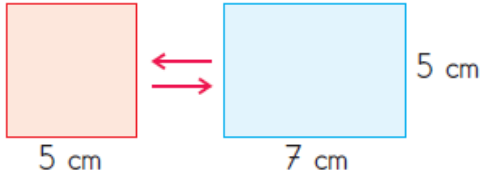
14) Saatte 85 km hızla giden bir araç gitmesi gereken yere 5 saatte ulaşmıştır. Bu aracın gittiği mesafe kaç km dir?

- A) 90 km B) 340 km
C) 425 km D) 17 km



15) Yukarıdaki şekil kaç eş küpten oluşmaktadır?

- A) 8 B) 7
C) 10 D) 6



16) Yukarıdaki kare ve dikdörtgen şeklindeki kartonlar ok yönünde birleştiriliyorlar. Oluşan yeni şeklin çevresi kaç cm dir?

- A) 24 cm B) 34 cm
C) 44 cm D) 39 cm

17) Aşağıdaki işlemlerden hangisinin sonucu en büyüktür?

- A) $199 + 223 =$
B) $784 \div 4 =$
C) $705 - 299 =$
D) $36 \times 32 =$

18) Aşağıdaki işlemlerden hangisi yanlış yapılmıştır?

- A) $\frac{4}{5} + \frac{7}{5} = \frac{11}{10}$
B) $\frac{9}{8} + \frac{1}{8} = \frac{10}{8}$
C) $\frac{7}{10} + \frac{1}{10} = \frac{8}{10}$
D) $3\frac{1}{7} + \frac{2}{7} = 3\frac{3}{7}$

19) 480 sayısının $\frac{3}{8}$ 'ü kaç eder?

- A) 60 B) 160
C) 180 D) 170

$$(425 - 155) \times 12 = ?$$

20) Yukarıdaki işlemin sonucu kaçtır?

- A) 270 B) 3240
C) 3140 D) 3340

$$965 \text{ cm} = \dots \text{ m} \dots\dots \text{ cm}$$

21) Yukarıdaki dönüşüm hangi şekilde tamamlanmalıdır?

- A) 9 m 65 cm B) 96 m 5 cm
C) 9 m 650 cm D) 96 m 65 cm

22) Her biri 65 g olan çikolatalardan bir kutuda bir düzine bulunmaktadır. Bu kutunun ağırlığı ne kadardır?

- A) 77 g B) 78 kg
C) 780 kg D) 780 g

14 - 21 - 19 - 26 - 24 - ?

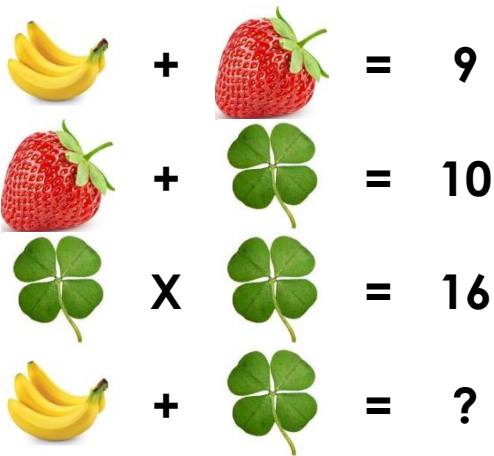
23) Yukarıdaki örüntü hangi sayı ile tamamlanmalıdır?

- A) 31 B) 22
C) 30 D) 26



24) Yukarıdaki her biri 35 er kilo gelen üç çuval tuzu 5 er kiloluk poşetlere ayırmak istenmektedir. Kaç tane poşete ihtiyaç vardır?

- A) 40 B) 175
C) 7 D) 21



25) Soru işaretli yere hangi sayı gelmesi gerekmektedir?

- A) 12 B) 7
C) 10 D) 9

Dünya' nın Güneş etrafında dönme süresi

24 saat

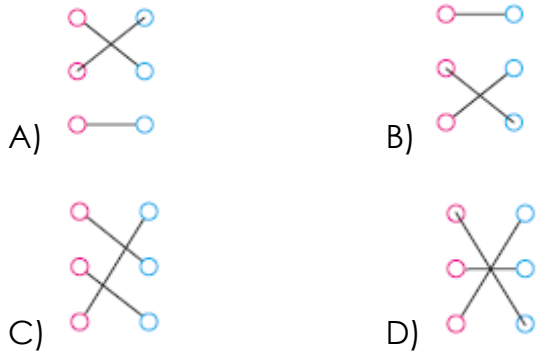
Dünya' nın kendi eksenini etrafında dönme süresi

1 yıl

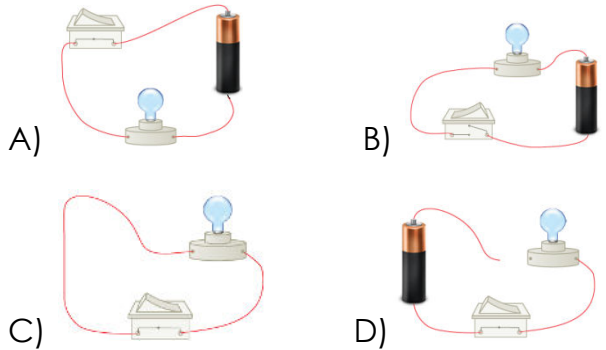
Dünya' nın kendi eksenini etrafında dönmesi sonucunda

Gece gündüz

1) Yukarıdaki ifadeler doğru eşleştirildiğinde hangi seçenek doğru olur?




2) Aşağıdaki elektrik devrelerinden hangisindeki lamba ışık verir?





3) Aşağıdakilerden hangisi çevre kirliliğine neden olmaz?

- A) Düzensiz şehirleşme.
B) Bitki atıkları
C) Filtre takılmamış fabrika bacaları.
D) Doğaya atılmış piller.

4) Aşağıdakilerden hangisi Dünyamızın uydusudur?



5) Aşağıdakilerden hangisi doğada daha uzun süre kalarak çevre kirliliğine neden olur?



6) Yukarıdaki adamın kullandığı beton kırıcıyı kullanan birisi kulak sağlığını korumak için aşağıdakilerden hangisini kullanmalıdır?

- A) Maske B) Eldiven
C) İşitme cihazı D) Kulak koruyucu

"Ses kirliliği insan sağlığını olumsuz etkiler."

7) Aşağıdaki örneklerden hangisi yukarıdaki ifadeyi desteklemez?

- A) Beden sağlığımızı olumsuz etkiler.
B) İnsanların başarısını artırır.
C) Kulak sağlığımızı olumsuz etkiler.
D) Strese neden olabilir.

8) Aşağıdakilerden hangisi sesin şiddetini arttırmak için kullanılan araçlardan biri değildir?



I. Işığın gökyüzüne yönlendirilmesi.
II. Tasarruflu ampuller kullanılması.
III. Gereksiz aydınlatma yapılmaması.

9) Yukarıdakilerden hangisi veya hangileri doğru aydınlatmaya örnektir?

- A) Yalnız I B) Yalnız II
C) II ve III D) I, II ve III

10) Aşağıdakilerden hangisi ışık kaynağı değildir?

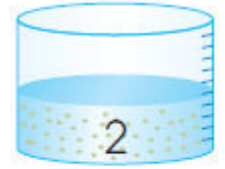
- A) Güneş B) Yıldızlar
C) Gaz lambası D) Ayna

11) Aşağıdaki karışımlardan hangisini mıknatısla ayırma yöntemi ile ayırabiliriz?

- A) Tuzlu su B) Kum ve talaş
C) Makarna su D) Demir tozu ve tuz



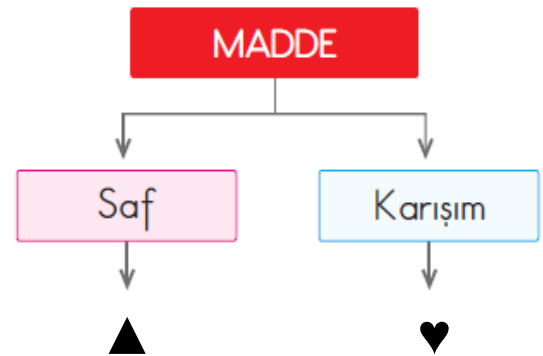
Şekerli su



Talaş ve su

12) Yukarıdaki karışımları ayırmak için hangi yöntemleri kullanmalıyız?

- 1 2
A) Buharlaştırma Süzme
B) Buharlaştırma Mıknatısla ayırma
C) Süzme Süzme
D) Eleme Buharlaştırma



13) Yukarıdaki şemada sembollerin yerine hangileri yazılmalıdır?

- A) Su Tuzlu su
B) Limonata Şekerli su
C) Demir tozu Su
D) Tuzlu su Demir tozu

- I. Dondurma
- II. Tahta
- III. Tere yağ
- IV. Ekmek

14) Yukarıdaki maddelerden hangileri ısı aldığı anda erime olayı gerçekleşir?

- A) I ve II
- B) II ve III
- C) I ve III
- D) III ve IV



15) Yukarıdaki cisim hangi hareketi yapmaktadır?

- A) Sallanma
- B) İtme
- C) Çekme
- D) Dönme



Bardak



kalem

16) Yukarıdaki maddelerin ortak özelliği aşağıdakilerden hangisidir?

- A) Akışkan olmaları
- B) Belirli bir şekillerinin olması.
- C) Belirli bir kütlelerinin olmaması
- D) Buldukları kabın şeklini alırlar.

- I. Konuldukları kabın şeklini alırlar.
- II. Belirli bir şekilleri vardır.
- III. Buldukları ortama yayılırlar.

17) Yukarıda özellikleri verilen maddenin halleri hangi seçenekte doğru verilmiştir?

- | I | II | III |
|---------|------|------|
| A) Katı | Sıvı | Gaz |
| B) Sıvı | Katı | Gaz |
| C) Sıvı | Gaz | Katı |
| D) Gaz | Katı | Sıvı |

18) Miknatısla ilgili aşağıdaki bilgilerden hangisi yanlıştır?

- A) Aynı kutupları birbirini çeker.
- B) İki kutbu vardır.
- C) Doğal ve yapay türleri vardır.
- D) Pusulalarda kullanılır.

19) Aşağıdaki eşleştirmelerden hangisi yanlıştır?

- A) Sünger ----- Suyu çekme
- B) Gözlük ----- Kırılma
- C) Cam ----- Saydam
- D) Bardak ----- Esnek

20) Dünyamızın 2 türlü hareketi vardır. Bunlar hangi seçenekte doğru verilmiştir?

- A) Sallanma ----- Dönme
- B) Dönme ----- Düşme
- C) Dönme ----- Dolanma
- D) Kaldırma ----- Dolanma

21) Aşağıdakilerden hangisi en eski aydınlatma aracıdır?

- A) Meşale
- B) Gaz lambası
- C) Ampul
- D) Güneş

22) Aşağıdaki örneklerden hangisi tasarrufu anlatmamaktadır?

- A) Boşa akan muslukları kapatmalıyız.
- B) Boşa yanan lambaları kapatmalıyız.
- C) İhtiyacımız olmasa da ucuz diye fazla harcama yapmalıyız.
- D) İhtiyacımız kadar gıda maddesi almalıyız.

"Makarna, ekmek, buğday, patates bakımından zengin besin kaynaklarıdır."

23) Yukarıdaki boşluğa aşağıdakilerden hangisi getirilmelidir?

- A) Protein
- B) Karbonhidrat
- C) Vitamin
- D) Yağ

24) Bilinçli bir tüketici aşağıdakilerden hangisini yapmaz?

- A) Paketin rengine göre almak
- B) Alışveriş listesi hazırlamak
- C) Son kullanma tarihine bakmak
- D) Fiş almak

25) Sigara içmek insanın hangi organının sağlığının bozulmasına neden olur?

- A) Karaciğer
- B) Mide
- C) Akciğer
- D) Böbrek

SOSYAL BİLGİLER



1) Yukarıdaki görsel hangi ülkeyle ilişkilidir?

- A) Mısır B) Suudi Arabistan
C) Hindistan D) Yemen



2) Aşağıdaki ifadelerden hangisi yukarıdaki görselleri en iyi şekilde anlatır?

- A) Bu sene koyu renkli kıyafetler moda
B) Giyinme şekilleri kültürlere göre farklılık gösterir.
C) Tüm milletler aynı tarzda giyinirler.
D) İnsanların giyinme tarzları aynıdır.

3) Aşağıdaki ülkelerden hangisi sınır komşularımızdan biri değildir?

- A) Yunanistan B) Bulgaristan
C) Romanya D) Gürcistan

4) Aşağıda ülkemizle ilgili verilen bilgilerden hangisi doğru değildir?

- A) En kalabalık şehrimiz İstanbul' dur.
B) Başkentimiz Ankara' dır.
C) İran sınır komşularımızdandır.
D) Rusya sınır komşularımızdandır.

"Melis, insanlara yardım etmek amacıyla kurulan kuruluşlardan birinde görev yapmaktadır."

5) Buna göre aşağıdakilerden hangisi Melis' in sorumluluklarından biri değildir?

- A) İnsanlara karşı saygılı olmak.
B) İhtiyaç sahiplerini belirlemek.
C) Yardıma ihtiyacı olanlara yardım etmek.
D) İnsanlar arasında ayırım yapmak.

6) Aşağıdakilerden hangisi Çocuk Hakları Sözleşmesinde yer almaz?

- A) Çocuklar her işte çalışabilirler.
B) 18 yaşına kadar her birey çocuktur.
C) Eğitim almak her çocuğun hakkıdır.
D) Yaşamak her çocuğun en temel hakkıdır.

Vergi Dairesi

Valilik

7) Yukarıdaki kurumların ortak özelliği hangisidir?

- A) Sağlık kurumlarıdır.
B) Devlete bağlı resmi kurumlardır.
C) İki de sivil toplum örgütüdür.
D) Bu kurumlarda gönüllü olarak çalışılır.

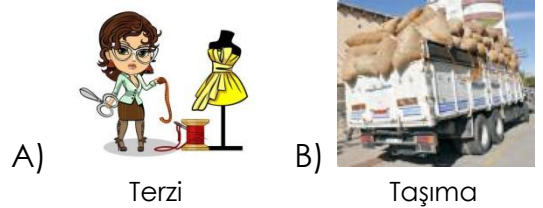


Mr cihazı

8) Yukarıdaki alet hangi alanda kullanılmaktadır?

- A) Eğitim B) Tarım
C) Sağlık D) İletişim

9) Bir kumaşın elbise olarak dikilmesine kadar gelen yolculukta ilk aşama hangisidir?



- A) Terzi B) Taşıma



- C) Pamuk tarlası D) İplik fabrikası

10) Aşağıdakilerden hangisi biz insanların temel ihtiyaçlarından biri değildir?

- A) Giyinme B) Barınma
C) Beslenme D) Eğlenme

"Teknolojinin yanlış kullanımı hem çevreyi hem de insan sağlığını olumsuz etkiler."

11) Aşağıdakilerden hangisi teknolojinin olumsuz etkilerinden biri değildir?

- A) İletişim hızı
- B) Toprak kirliliği
- C) Hava kirliliği
- D) Radyasyon

I. Ürünün son kullanma tarihine bakar.
II. Fiş veya fatura alır.
III. TSE damgası olup olmadığına bakar

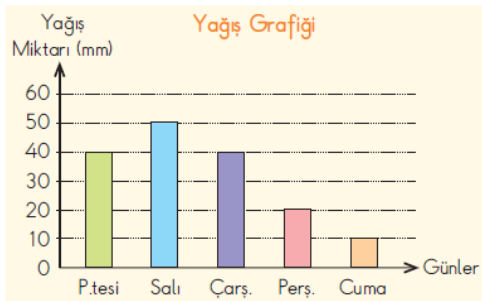
12) Bilinçli bir tüketici yukarıdaki davranışlardan hangisini yapar?

- A) I, II ve III
- B) I ve II
- C) II ve III
- D) Yalnız II

I. Kitap okumak
II. Sinemaya gitmek
III. Barınma
IV. Beslenme

13) Yukarıdakilerden hangisi sosyal ihtiyaçlarımızdandır?

- A) I, II ve III
- B) I ve II
- C) III ve IV
- D) I, II, III ve IV



14) Yukarıdaki grafiğe göre hangisi söylenemez?

- A) En yağışlı gün Salı günüdür.
- B) Pazartesi ve çarşamba günü aynı oranda yağış olmuştur.
- C) En az yağışlı gün Perşembe dir.
- D) En az yağışlı gün Cuma dir.

Baraj

Bina

Köprü

Göl

Oto yol

Dağ

15) Yukarıdakilerden kaçısı beşeri unsurlardandır?

- A) 2
- B) 3
- C) 4
- D) 5



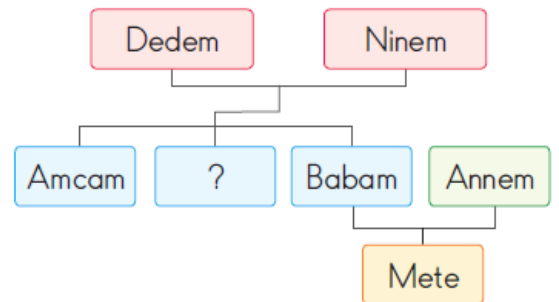
16) Yukarıdaki şekilde işaretli yerlere hangi yönler yazılmalıdır?

- A) Kuzey doğu
 - B) Kuzey batı
 - C) Kuzey batı
 - D) Kuzey
- Kuzey doğu
 - Güney doğu
 - Güney batı
 - Güney



17) Yukarıdaki görseldeki gibi Güneşin doğduğu tarafa sol kolumuzu uzatırsak, önümüz hangi yönü gösterir?

- A) Kuzeyi
- B) Doğuyu
- C) Batıyı
- D) Güneyi



18) Mete' nin hazırladığı soyağacında soru işaretli yere hangisi yazılabilir?

- A) Halam
- B) Teyzem
- C) Dayım
- D) Kuzenim

19) **Milli Mücadele hangi gelişmenin yaşanmasıyla başlamıştır?**

- A) TBMM' nin açılması.
- B) Sivas Kongresi' nin toplanması.
- C) M. Kemal ATATÜRK' ün Samsun' a ayak basmasıyla.
- D) Erzurum Kongresi' nin toplanması.



?



Ebru



Çömlekçilik



Oymacılık

20) **Yukarıda ismi verilmeyen el sanatımız hangisidir?**

- A) Çinçilik
- B) Kilim dokuma
- C) Telkari
- D) Bakırcılık

21) **Aşağıdaki seçeneklerden hangisinde Hz. Muhammed'in (s.a.v.) doğum yeri ve tarihi doğru olarak verilmiştir?**

- A) Mekke - 571
- B) Medine 571
- C) Medine - 632
- D) Mekke - 622

22) **Gücümüz yetmediğinde, isteklerimizimize ulaşamadığımızda Allah' tan isteklerde bulunmaya ne denir?**

- A) Sevap
- B) Dilek
- C) Helal
- D) Dua

" Allah'ın bize verdiği maddi ve manevi nimetlere karşılık Allah'a ederiz."

23) **Cümlesinde noktalı yere aşağıdakilerden hangisi gelmelidir ?**

- A) Şükür
- B) Dua
- C) Teşekkür
- D) Sevap

24) **Aşağıdakilerden hangisi ahlaki bir kişinin yaptığı davranışlar arasında yer almamaktadır ?**

- A) Anne ve babaya saygılı olmak.
- B) İnsanlara iyilik yapmak.
- C) Yalan söylememek.
- D) Sınavlarda kopya çekmek.

25) **Mekke şehrinde bulunan Kabe' yi ve kutsal yerleri ziyaret etmek suretiyle yapılan ibadet aşağıdakilerden hangisidir ?**

- A) Namaz
- B) Zekat
- C) Oruç
- D) Hac

Sınavınız Bitmiştir.