



4. Sınıf Deneme Sınavı -2-



ADI :
SOYADI :
SINIFI :
NO :



Muhammet ÖZENÇ
Ocak 2019

1) "Terzi Mehmet Amca' nın yanına yetiştirilmesi gereken bir gömlek vardı. Gömleğin kolunun birini ve yakasını tamamlamış, diğer kolunu ve düğmelerini yapmaya başlayacaktı ki, elektrikler kesildi. Mehmet Amca' nın eli kolu bağlanmış, beklemekten başka bir çaresi kalmamıştı."

Yukarıdaki altı çizili sözün cümleye kattığı anlam aşağıdakilerden hangisidir?

- A) Bir şey yapamaz duruma gelmek.
- B) İstedğini güçlkle elde etmek.
- C) Tek başına başarmak.
- D) Elinin kolunun uyuşması.

2) Aşağıdaki cümlelerin hangisinde "Perde" kelimesi gerçek anlamında kullanılmamıştır?

- A) Gözlerimin önüne bir perde indi sanki gerçekleri göremedim.
- B) Salonun perdesine bir kuş kondu.
- C) Amcamlara hediye olarak bir mutfak perdesi satın aldık.
- D) Odamın perdesini kendim seçtim.

3) "Av köpeklerinin burunları çok iyi koku alırlar. Çok uzak mesafelerdeki avın bile kokusunu rahatlıkla alabilirler. Ayrıca av köpekleri insanlara kolay kolay saldırmazlar. "

Yukarıdaki metinde av köpeklerinin hangi özelliğinden bahsedilmemiştir?

- A) Burunlarının çok iyi koku aldığından.
- B) İnsanlara karşı çok saldırgan olduklarından.
- C) Uzak mesafeden bile koku alabildiklerinden
- D) İnsanlara kolay kolay saldırmadıklarından

4) Aşağıdaki altı çizili kelimelerden hangisinin eş anlamlısı yoktur?

- A) Her şartta mutlu olmasını bilmeliyiz.
- B) Vecihi Hürkuş tayyare ile Rus ordusunu bombaladı.
- C) Dut ağacının yaprakları dökülmüş.
- D) İçimdeki şüphe beni yedi bitirdi.

5) En sevmediğim huyum, Tembelliğim.
Hiç çalışmayı sevmem,
Sanki kış mevsimiyim.

Aşağıdaki açıklamalardan hangisi yukarıdaki şiirdeki altı çizili kelimelere ait değildir?

- A) Dünya' nın Güneş etrafında dolanması sonucu oluşur.
- B) İnsanların yaratılış ve ruh özelliklerinin bütünü. Karakter.
- C) Karşılaşılan kötü durumdan dolayı duyulan üzüntü, acıma.
- D) Çalışmayı sevmeyen.

6) Aşağıdaki cümlelerden hangisinde **sebep sonuç ilişkisi bulunmaktadır?**

- A) Saksidaki çiçeği suladı.
- B) Durakta saatlerce beklemiş.
- C) Kelebekler havada uçuşuyor.
- D) Yağmur yağdığı için yollar çamur oldu.

7) "Ahmet üç gündür ev arıyordu. Emlakçının camında asılı ilanı gördü. Tam istediği gibi bir ev."

Yukarıdaki altı çizili kelimenin eş anlamlısı aşağıdaki cümlelerden hangisinde bulunmaktadır?

- A) Doktor iki çeşit ilaç yazmış.
- B) Orman Bakanlığı duyuru yayımlamış: "ormana cam şişe atmayalım."
- C) Sepete ilave olarak iki paket un ekledi.
- D) Annem çamaşırları ipe astı.

8) Aşağıdaki atasözlerinden hangisi **tutumlu olma hakkındadır?**

- A) Akıl akıldan üstündür.
- B) Damlaya damlaya göl olur.
- C) Aç tavuk kendini buğday ambarında sanırmış.
- D) Gül bahçesine giren , gül kokar.

9) (1)Yaz tatili için ailemle birlikte güneşe, Bodrum' a gittik. (2)Bodrum' un güneşi daha bi sıcaktı sanki. (3)Sıcak kumlardan kalkıp, soğuk sulara atladık. (4)Oraların tarihi yerleri de muhteşem.

Yukarıdaki numaralı cümlelerden hangisinde zıt anlamlı kelimeler aynı cümlede kullanılmıştır?

- A) 1. B) 2.
C) 3. D) 4.

10) "Yıllardır görmediğim arkadaşımı saat 14()30' da göreceğim()Acaba değişmiş miydi()"

Yukarıdaki metinde boş bırakılan yerlere sırasıyla hangi noktalama işaretleri getirilmelidir?

- A) (:) (.) (?) B) (.) (.) (.)
C) (.) (:) (?) D) (.) (.) (?)

11) Tuzlu su ve sirke ağırlıklı salamura içine domates, salatalık, lahana, fasulye gibi çoğu sebzenin konulup, bekletilmesiyle elde edilen turşu, Türk yemek kültürünün vazgeçilmez lezzetlerinden biri. Geleneğimizin bir parçası olan turşu, ev yemeklerinin tadını tamamlayarak gönülleri fethediyor. Özellikle pilav, nohut, kuru fasulye gibi pek çok baklagil yemeklerinin, turşu lezzetini katlıyor.

Yukarıda metinde anlatıldığına göre Türk yemek kültürünün vazgeçilmez lezzeti hangisidir?

- A) Pilav B) Nohut
C) Kuru fasulye D) Turşu

12) Aşağıdakilerden hangisinde ayrı yazılması gereken "de" bitişik yazılmıştır?

- A) Çok sinirliydi, arabadanda inmedi.
B) Bahçede çiçekler açmış.
C) Akdeniz de yurdumuzun güneyindedir.
D) Okula geldiklerinde çok geçti.

13) Aşağıdaki cümlelerden hangisinde benzetme yapılmıştır?

- A) Ben de senin gibi öğretmen olmak istiyorum.
B) Yağmur yağdığı için ıslandık.
C) Yollar kalabalık olduğu için geç kaldık.
D) Her sabah saat yedide kahvaltı yapılır.

14) "Asabi bir insan olduğu için onu pek sevmezlerdi."

Yukarıdaki altı çizili kelimenin yerine hangisini kullanırsak cümlenin anlamında herhangi bir değişme olmaz?

- A) Sakin B) Sabırlı
C) Sinirli D) Geveze

- 15) 1. uyku
2. problemi
3. insanlar
4. yaşayan
5. sağlıksızdır

Yukarıdaki sözcükleri anlamlı ve kurallı bir cümle oluşturulduğunda sıralama hangi şekilde olur?

- A) 1-2-3-4-5 B) 3-1-2-4-5
C) 2-4-3-5-1 D) 1-2-4-3-5

16) Piknik alanını dolduran insanlar birer birer yakıyor mangallarını. Getirdikleri et ve tavukları kızartmak için hevesle yelliyorlar ateşi. Neşeli bir gürültü sarıyor piknik alanını.

Bu parçada aşağıdaki hikaye unsurlarından hangisi yoktur?

- A) Yer B) Zaman
C) Olay D) Kişi

17) Süpürgelerle oynanan Körling oyununu dörder kişilik takımların buz üzerindeki satrancı olarak değerlendiriliyor. Henüz ülkemizde yaygın olarak bilinmeyen Körling, Kanada gibi soğuk ülkelerde oldukça yaygın olarak oynanan ve sevilen bir buz oyunudur. 4'er kişilik takımlar halinde oynanan körling'te 3 süpürücü ve bir atıcı bulunur. Oyunda amaç 8 tane taşı hedefe en yakın noktaya atmaktır. Taşlar, buz pistinde oluşturulmuş çemberlerin merkezlerine en yakın noktalara atılmaya çalışılır. Her oyuncu 2'şer taş atar ve 8 taş atıldığı zaman 1 oyun sona erer. Bir Körling, 10 oyundan oluşur ve 75 dakika sürer.

Bu metinde " körling " ile ilgili aşağıdakilerden hangisine değinilmemiştir?

- A) Takımların kaçar kişiden oluştuğuna.
- B) Oyun alanınının 42 metre uzunluğunda olduğuna
- C) Her oyuncunun kaçar atış yapacağına.
- D) Oyunun kaç dakika sürdüğüne.

18) Ana ve babadan, sonra en yakın
Tek gönül sırdaşın, adıdır kardeş!
Onun gibi bir dost, bulanmaz bakın
Ömrünün şekeri, tadıdır kardeş!
Tek gönül sırdaşın, adıdır kardeş!

Bu şiire hakim olan ana duygu aşağıdakilerden hangisidir?

- A) Kardeş sevgisi
- B) Ana ve baba sevgisi
- C) Çocukluk özlemi
- D) Arkadaş sevgisi

19) "Fırtına başladığı için, sahilde bekleyen balıkçılar, sahile yakın olan lokantaya sığındılar."

Bu metinde aşağıdaki sorulardan hangisinin cevabı yoktur?

- A) Nereye? B) Kim?
- C) Niçin? D) Nasıl?

20) Sağlıklı beslenmek için doğal besinler tüketmemiz gerekir. Yediklerimize içtiklerimize dikkat etmeliyiz. Öğünlerimizi hazırlarken,

Yukarıdaki metin aşağıdakilerden hangisiyle devam ettirilebilir?

- A) Hazır gıdaları kullanmalıyız.
- B) İçecek olarak asitli içecekler kullanmalıyız.
- C) Doğal ve katkısız besinleri kullanmalıyız.
- D) Bol yağlı besinler kullanmalıyız.

21) Balık alırken balığın gözlerine bakmalı. Yeşil sebzelerin solmamasına dikkat etmeli. Meyvelerin çürümemişlerini almalı. Ambalajlı ürünlerin son kullanma tarihlerine mutlaka bakmalı. Satın aldığımız her ürünün de kesinlikle fişini istemeliyiz.

Yukarıdaki metnin konusu aşağıdakilerden hangisi olabilir?

- A) Besinlerin faydaları.
- B) Reklamı olan ürünler.
- C) Taze ürün nasıl yetiştirilir.
- D) Ürünleri satın alırken nelere dikkat etmeliyiz.

22) Ayşe hanım bu sabah Bursa' ya
1 2
gitmek için evden çıktı. Otobüsü
3

Konya' ya geldiğinde mola verdi.
Konya çok soğuktu.

4
Yukarıdaki metinde altı çizili verilen kelimelerden hangisinin yazımında yanlışlık yapılmıştır?

- A) 4 B) 2
- C) 1 D) 3

23) Aşağıdaki cümlelerin hangisinde altı çizili sözcüğün zıt anlamı yoktur?

- A) Bunu başarmak kolay değildi.
- B) Önlüğün yakasına kurdele takmış.
- C) Meyvelerin olgunlarını seçmişsin.
- D) Bu elbise sana biraz dar olmuş.

24) Aşağıdaki altı çizili kelimelerden hangisi gerçek anlamı dışında kullanılmıştır?

- A) Arkadaşlarına çok sıcak davranıyor.
B) Sobadaki odun alev alev yanıyor.
C) Çay çok sıcak olduğundan içemedim.
D) Çıkan yangında bütün evraklar yandı.

25) Bu hayvanat bahçesinde yeleleri uzun iki aslan, pijamalı eşek diye bilinen zebralar ve çamurda yuvarlanan fil yavrularını gördüm. Ama hiç zürafa görmedim. Belki de yoktu.

Yukarıdaki metin ile ilgili hangi bilgi doğru değildir?

- A) Yeleleri uzun bir aslan varmış.
B) Hiç zürafa görmemiş.
C) Fil yavruları çamurda yuvarlanıyormuş.
D) Zebralar varmış.

--- MATEMATİK ---

$$5000 - 1799 = ?$$

1) Yukarıdaki işlemin sonucu kaçtır?

- A) 3200 B) 3201
C) 4201 D) 3301

$$\begin{array}{r} 739 \overline{)6} \\ - \quad \quad \quad \star \\ \hline \triangle \end{array}$$

2) Yukarıdaki bölme işlemine göre

$$\star + \triangle = ?$$

- A) 123 B) 124
C) 25 D) 125




3) Tarık yukarıdaki oyuncacı alabilmek için, 15 TL olan günlük harçlığının 12 TL sini biriktirme kararı aldı. Pazartesi gününden itibaren para biriktirmeye başladığına göre, çok istediği oyuncacı **hangi gün alabilir?**

- A) Perşembe B) Cuma
C) Cumartesi D) Pazar

$$6250 - (225 \times 13) = ?$$

4) Yukarıdaki işlemin sonucu hangisidir?

- A) 6025 B) 2925
C) 3425 D) 3325



5) Yukarıdaki şekilde kaç tane daha alanı boyarsak, şeklin yarısını boyamış oluruz?

- A) 18 B) 12
C) 24 D) 6

6) Ahmet 123 cm, babasının boyu ise 171 cm'dir.

Ahmet kaç santimetre daha uzarsa babasının boyuna gelmiş olur?

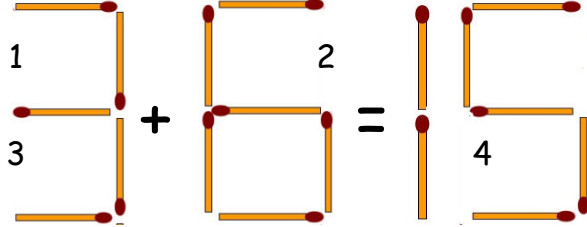
- A) 48 B) 58
C) 194 D) 49

7) Melis doğalı 7 yıl 8 ay olduđuna göre, Melis Őimdi ka aylıktır?

- A) 84 B) 92
C) 78 D) 82

8) Murat günde 28 sayfa kitap okuduđuna göre, bir hafta sonunda 223 sayfalık bir kitabın okumadıđı ka sayfası kalır?

- A) 196 B) 319
C) 27 D) 251



9) Yukarıdaki iŐlemdeki hatayı öz-
mek için ne yapmak gerekir?

- A) 2 numaralı yere bir öp eklemeliyiz.
B) 4 numaralı yere bir öp eklemeliyiz.
C) 1 numaralı yere bir öp eklemeliyiz.
D) 3 numaralı yere bir öp eklemeliyiz.

7029

7209

7290

7902

10) Yukarıdaki sayıların dođru sıralan-
mıŐ hali aŐađıdakilerden hangisidir?

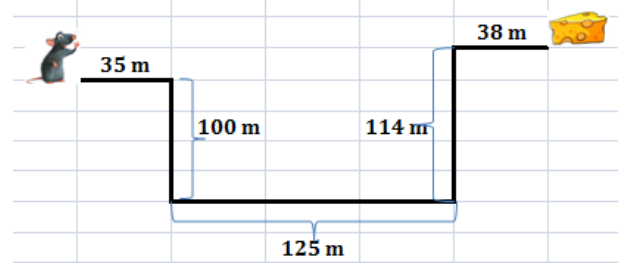
- A) 7902 > 7209 > 7290 > 7029
B) 7029 < 7290 < 7209 < 7902
C) 7290 < 7209 < 7920 < 7029
D) 7029 < 7209 < 7290 < 7902

11) Ali, günlüđü 75 TL olan bir iŐte a-
lıŐıyor. Ali ayda ka TL para kazanır?

- A) 2250 TL B) 105 TL
C) 2150 TL D) 2350 TL

12) Mert, dedesinin kendisine verdiđi
144 tane fındıđı 3 arkadaŐı ile birlikte
paylaŐıyor. Her birine kaar tane fındık
düşer?

- A) 36 B) 38
C) 133 D) 48



13) Yukarıdaki farenin peynire ulaŐa-
bilmesi için ka metre yol gitmesi
gerekir?

- A) 402 B) 412
C) 312 D) 198

48 - 55 - 53 - 60 - 58 - ? -

14) Yukarıdaki örüntüde soru iŐaretili
yere hangi sayı gelmelidir?

- A) 60 B) 62
C) 65 D) 56

Yirmi altı bin otuz dokuz.

15) Yukarıda okunuŐu verilen sayı
hangisidir?

- A) 2639 B) 26390
C) 26039 D) 26309

16) Melis her gün 28 sayfa kitap oku-
maktadır. Melis üç gündür kitap oku-
duđuna göre, 160 sayfalık kitabın da-
ha okuması gereken ka sayfası
vardır?

- A) 132 B) 76
C) 188 D) 84

17) Aşağıdaki işlemlerden hangisinin sonucu yanlıştır?

A)
$$\begin{array}{r} 368 \\ + 187 \\ \hline 555 \end{array}$$

B)
$$\begin{array}{r} 325 \\ \times 32 \\ \hline 650 \\ + 975 \\ \hline 10400 \end{array}$$

C)
$$\begin{array}{r} 725 \\ - 189 \\ \hline 536 \end{array}$$

D)
$$\begin{array}{r} 325 \\ - 232 \\ \hline 193 \end{array}$$

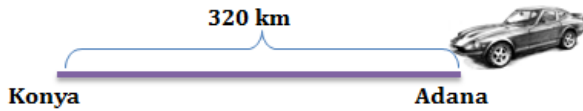
18) İçerisinde 750 litre süt bulunan tanktaki sütün 190 litresi satıldı, geriye kalanların 350 litresi ile de yoğurt yapıldı. Geriye kaç litre süt kalmıştır?

- A) 210 B) 310
C) 540 D) 290

$5 - 0 - 7 - 1$

19) Yukarıdaki rakamlar birer defa kullanılarak yazılabilecek dört basamaklı en büyük sayıdan, yine aynı rakamlar kullanılarak yazılabilecek dört basamaklı en küçük sayının farkı kaçtır?

- A) 7353 B) 6553
C) 6453 D) 6653



20) Adana' dan saatte 80 km hızla giden bir araba Konya' ya gitmektedir. Bu araba 3 saat yol gidince mola veriyor. Konya' ya ulaşmaları için daha kaç kilometre yolları kalmıştır?

- A) 240 km B) 80 km
C) 400 km D) 100

$209 + (456 - 210) = ?$

21) Yukarıdaki işlemin sonucu kaçtır?

- A) 455 B) 445
C) 465 D) 246

$(12 \times 3) + \star = 47$

22) Yukarıdaki \star yerine hangi sayı yazılmalıdır?

- A) 36 B) 46
C) 10 D) 11

23) Samet ile Sefa kardeşlerdir. Samet 13 yaşında, Sefa ise Samet' in yaşının 2 katından 7 eksik yaşadadır. Buna göre bu iki kardeşin yaşları toplamı kaçtır?

- A) 32 B) 22
C) 26 D) 33



450 gram

24) Bir torbanın içerisinde yukarıdaki toplardan 4 tane bulunmaktadır. Bu torbanın içerisindeki ağırlıklar toplamı kaçtır?

- A) 454 gram B) 900 gram
C) 1250 gram D) 1800 gram

25) 750 sayısının kaç eksiği 385 eder?

- A) 1135 B) 365
C) 465 D) 375



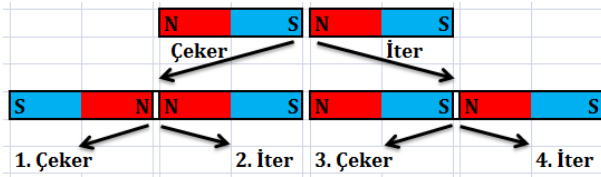
1) Yukarıdaki maddeyi hangi özelliğinden dolayı yağmur yağdığına kullanırız?

- A) Suyu ammeme
B) Suyu emme
C) Suda batma
D) Suda yüzme

2) "Normal şartlarda sıvı halde bulunan bir metaldir. Tıpta, eczacılıkta, fotoğrafçılıkta, termometre yapımında kullanılır."

Yukarıdaki bahsedilen maden hangisidir?

- A) Civa
B) Altın
C) Bakır
D) Bor



3) Miknatısların bir birlerine uyguladıkları kuvvetleri oklarla takip ettiğimizde, Kaçınıcı çıkıştan çıkılır?

- A) 1
B) 2
C) 3
D) 4

4) Aşağıdaki maddelerden hangisi miknatıs tarafından çekilebilir?

- A) Silgi
B) Bardak
C) Toplu iğne
D) Bakır tava

5) Sigara içmediği halde sigara içilen ortamda bulunan kişiye içici denir. **Boşluğa hangisi getirilmelidir?**

- A) Genel
B) Hızlı
C) Pasif
D) Aktif



6) Yukarıda kuvvetin hangi etkisine örnekleme yapılmıştır?

- A) Hızlandırıcı
B) Yön değiştirici
C) Yavaşlatıcı
D) Şekil değiştirici

7) Esra; içerisinde kağıt parçaları, toplu iğneler, iplik ve metal ataşların olduğu kaseye bir miknatısı yaklaşıyor.

Buna göre miknatıs kasedeki hangi cisimleri çekmez?

- A) Metal ataş ve kağıt parçaları
B) Kağıt parçaları ve ipliği
C) İpliği ve toplu iğneleri
D) Toplu iğneleri ve metal ataş

I.		
II.		
III.		
IV.		

8) Yukarıdaki miknatıslardan hangileri birbirini çeker?

- A) I ve II
B) III ve IV
C) I ve III
D) II ve IV

9) Hareket halindeki bir cisme hareket yönünde uygulanan kuvvetin?..... etkisi vardır.

Yukarıdaki boşluğu hangi kelime ile tamamlamalıyız?

- A) Yavaşlatıcı
B) Şekil değiştirici
C) Hızlandırıcı
D) Yön değiştirici

10) Meyveler?..... bakımından zengin besinlerdir.

Yukarıdaki boşluk hangi kelime ile tamamlanmalıdır?

- A) Karbonhidrat
B) Yağ
C) Protein
D) Vitamin

11) Ayhan derste obezite hakkında arkadaşlarına bir sunum yapmıştır. "Obezite sağlığı bozacak şekilde vücutta normalden fazla yağ birikmesi olarak adlandırılır. Obezite olan kişilerde kalp ve damar rahatsızlıkları görülme riski çok fazladır. Dengesiz beslenme, aşırı besin tüketme ve hareketsiz yaşam tarzı obezite nedenlerindedir."

Ayhan yaptığı açıklamada obezite ile ilgili olarak aşağıdaki sorulardan hangisine cevap vermemiştir?

- A) Obeziteye hangi durumlar neden olabilir?
B) Obezite nedir?
C) Obezite hangi rahatsızlıklara neden olabilir?
D) Obezite en çok hangi yaş grubunda görülür?

12) Ahmet: Sigaranın zararlarını biliyorum ve bu konu hakkında insanları bilgilendirmeyi bir sorumluluk olarak görüyorum.

Ahmet aşağıdakilerden hangisini yapmış olamaz?

- A) Sigara içmeyin bunun yerine pasif içici olun.
B) Sigaranın zararlarını anlatan bir poster hazırlamıştır.
C) Çevresindekilere sigara içmenin akciğer kanseri yaptığını anlatır.
D) İnsanlara sigara içmenin hem maddi hem de sağlık açısından zararları olduğunu anlatır.

13) Paketlenmiş besinleri alırken;

- I. Paketin üzerinde TSE damgasının olmasına
II. Paketin açılmamış veya yırtık olmamasına
III. Paketlenmiş ürünün reklamının olup olmamasına
IV. Son kullanma tarihine

İfadelerinden hangilerine dikkat ederiz?

- A) I , II ve IV
B) I , II ve III
C) II , III ve IV
D) I ve II

14) * Dünya' mız kendi etrafındaki bir turunu 24 saatte tamamlar.

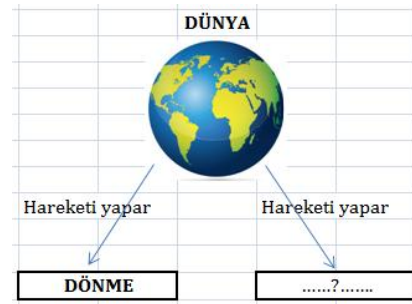
* Ay, Dünya' nın uydusudur.

* Dünya' mızın kendi eksenini etrafında dönmesiyle mevsimler oluşur.

* Dünya' mız Güneş etrafındaki turunu 365 gün 6 saatte tamamlar.

Yukarıdaki verilen bilgilerden kaç tanesi doğrudur?

- A) 1
B) 2
C) 3
D) 4



15) Yukarıdaki soru işaretli yere hangisi yazılmalıdır?

- A) Sallanma
B) Duraklama
C) Devriye
D) Dolanma

16) Ekonomik değeri olan kayalara?..... denir.

Yukarıdaki boşluk hangisiyle tamamlanır?

- A) Fosil
B) Maden
C) Kaya
D) Yer kabuğu

BESİN İÇERİKLERİ					
1	2	3	4	5	6
Karbonhidratlar	A	Proteinler	B	Su	Mineraller

17) Yukarıdaki tabloda "A" ve "B" harfleri yerine hangileri yazılmalıdır?

- A) Yağ ve Kalsiyum
B) Vitamin ve Yağ
C) Kalori ve Vitamin
D) Besin ve İçecek

18) Burak, markette alışveriş yapmaktadır. Sağlıklı ve doğal gıdalar almıştır. **Burak aşağıdakilerden hangisini almamıştır?**

- A) Koruyucu, renklendirici ve tatlandırıcı içeren bir ürün almıştır.
B) Doğal ekmek
C) Taze meyve
D) Taze sebze

19) Yapıcı ve onarıcı olarak bilinen **besin içeriği hangisidir?**

- A) Karbonhidrat B) Yağ
C) Vitamin D) Protein

20) "Boya sanayisinde, dişçilikte ve termometre yapımında kullanılır." **Yukarıda hangi madenden bahsedilmektedir?**

- A) Altın B) Gümüş
C) Cıva D) Kömür

21) Aşağıdakilerden hangisi mıknatıs tarafından **çekilmez?**

- A) Demir B) Nikel
C) Kobalt D) Bakır



Balık
I



Meyve
II



Asitli içecek
III



Peynir
IV



Bal
V



Ekmek
VI

22) Dengeli beslenen birisi yukarıdaki besinlerden hangisini tüketir?

- A) I , II ve III
B) IV , V ve VI
C) I , II , IV , V , VI
D) III , IV , V ve VI

23) Aşağıdaki araç gereçlerden hangisinde mıknatıs **kullanılmamaktadır?**



A) Radyo



B) Çaydanlık



C) Mikrofon



D) Buz dolabı

() Kuvvet duran cisimleri hareket ettirebilir.

() Kuvvet hareket halindeki cisimleri durdurabilir.

() Kuvvet, cisimlerin şeklini değiştirebilir.

24) Yukarıdaki ifadelerin doğru olanlara "D" yanlış olanlara "Y" yazdığımızda hangi seçenek **doğru olur?**

- A) D - D - D B) D - D - Y
C) D - Y - D D) Y - D - D

25) "... Sayın seyirciler kaleyci üzerine gelen topu yumruklayarak uzaklaştırıyor."

Yukarıda bir maçtan bir pozisyon anlatılmaktadır. Bu kuvvetin hangi etkisine örnek olarak gösterilebilir?

- A) Değiştirici B) Yavaşlatıcı
C) Yön değiştirici D) Hızlandırıcı

--- SOSYAL BİLGİLER ---

I. Kutup yıldızı

II. Güneş

III. Bulutlar

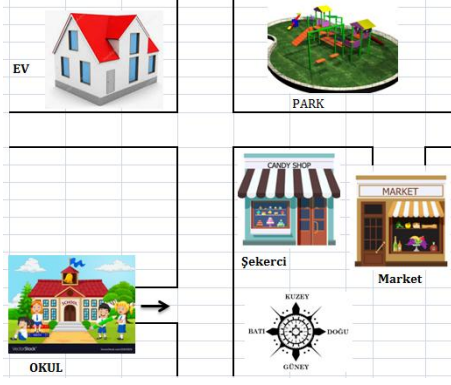
IV. Karınca yuvaları

1) Gündüz vakti yönünü bulmaya çalışan birisi hangisinden **faaydalanabilir?**

- A) I ve III B) II ve IV
C) Yalnız I D) II , III ve IV

2) Bir yerin kuş bakışı görünümünün kağıt üzerine kabaca çizimine ne **denir?**

- A) Harita B) Kroki
C) Çizim D) Karalama



3) Yukarıdaki resme göre şekerçi dükkanı nerededir?

- A) Okulun kuzeyinde, marketin doğusunda
 B) Marketin doğusunda, evin güneyinde
 C) Parkın güneyinde, marketin batısında
 D) Parkın doğusunda, okulun kuzeyinde

() Hava olaylarını önceden bilmenin bize bir faydası yoktur.

() Hava durumunu bilmek pilotlar, balıkçılar, kaptanlar ve çiftçiler için çok önemlidir.

() Hava olayları gün içerisinde farklılık göstermez.

4) Yukarıdaki ifadelerden doğru olanların başına "D" yanlış olanlara "Y" yazarsak hangi seçenek doğru olur?

- A) D - D - D B) Y - D - D
 C) D - Y - D D) D - D - Y

5) Aşağıdakilerden hangisi beşeri bir unsurdur?

- A) Dağlar B) Denizler
 C) Akarsular D) Parklar

6) Yön bulmak için kullandığımız yöntemlerden hangisi doğu - batı yönlüdür?

- A) Müslüman merarlıklarının ayak kısmı ve baş tarafı.
 B) Karınca yuvalarının ağız kısmı ve kum yığılan kısmı.
 C) Minare kapıları.
 D) Hristiyan mezarlarının baş ve ayak kısmı.

- I. Karınca yuvalarının giriş kısmı
 II. Minare kapıları.
 III. Ağaçların yosunlu kısmı.
 IV. Kutup yıldızı
 V. Güneşin doğduğu yer

7) Yukarıda verilen bilgilerden hangisi veya hangileri güneyi gösterir?

- A) Yalnız I B) I ve II
 C) III ve IV D) IV ve V

8) Yeni kimlik kartlarının çipli bölümünde aşağıdakilerden hangi bilgi depolanmamaktadır?

- A) Kişinin parmak izi
 B) Nüfus kayıt bilgisi
 C) kişinin kilo bilgisi
 D) Fotoğraf bilgisi

I. 19 Mayıs 1919' da Samsun' a ayak bastı.

II. 29 Ekim 1923' de cumhuriyeti ilan etti.

III. 23 Nisan 1920' de TBMM açıldı.

IV. 1881' de Selanik' te doğdu.

9) M. Kemal ATATÜRK' ün hayatında birkaç olay listelenmiştir. Bunların kronolojik sıralaması hangi seçenekte doğru verilmiştir?

- A) I - II - III - IV B) IV - I - II - III
 C) IV - I - III - II D) III - IV - I - II

10) "Kişinin kendini başkasının yerine koyabilmesine?..... denir."

Yukarıdaki verilen cümlede boş bırakılan yere hangi kelime gelmelidir?

- A) Yardım B) Dayanışma
 C) Sempati D) Empati

11) Aşağıdaki görsellerden hangisi kültürel bir öge değildir?



A)



B)



C)



D)

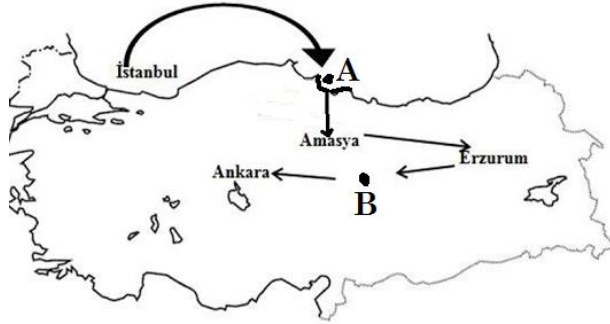
12) Kadir aile tarihi hakkında araştırma yapmak istiyor. Bunun için aşağıdakilerden hangisine başvurması en doğru olur?

- A) Aile büyükleriyle konuşması.
- B) İnternette araştırma yapması.
- C) Gazete ve dergileri incelemesi.
- D) Ansiklopedilerden araştırmalı.

13) "M. Kemal ATATÜRK, vapuru ile yola çıktı ve tarihinde Samsun' a ayak bastı."

Yukarıdaki boşluklara sırasıyla hangileri getirilmelidir?

- A) Balıkesir - 19 Mayıs 1919
- B) Bandırma - 19 Mayıs 1919
- C) İstanbul - 23 Nisan 1920
- D) Bandırma - 29 Ekim 1923



14) Yukarıdaki Milli Mücadele haritasında gösterilen "A" ve "B" harfleri yerine hangi şehirler yazılmalıdır?

- | A | B |
|------------|-------|
| A) Samsun | İzmir |
| B) Sinop | Sivas |
| C) Samsun | Sivas |
| D) Trabzon | Tokat |

15) Milli Mücadele hangi olay ile başlamıştır?

- A) Erzurum Kongresiyle
- B) TBMM nin açılması
- C) ATATÜRK' ün Samsun' a çıkışı.
- D) Sivas Kongresiyle

16) M. Kemal ATATÜRK' e hangi savaştan sonra mareşallik rütbesi verilmiştir?

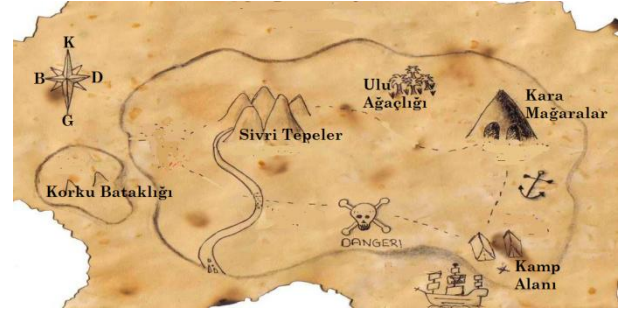
- A) Büyük Taarruz
- B) Sakarya
- C) Çanakkale
- D) I. İnönü

17) Aşağıdakilerden hangisi geleneksel oyunlarımızdan biri değildir?

- A) Çelik çomak
- B) Dalıye
- C) Aşık oyunu
- D) Satranç

18) Aşağıdakilerden hangisi Milli Mücadele zamanında gösterdikleri üstün başarı ve mücadeleler sonucu ünvan verilen illerimizden biri değildir?

- A) Samsun
- B) Antep
- C) Maraş
- D) Urfa



19) Korsanlar gemileriyle adaya yanaşıp o geceyi kamp alanında geçirerek dinlendiler. Ertesi gün hazineyi aramaya koyuldular. İlk olarak kuzeye doğru gittiler, vardıkları yerde bir saat kadar mola verip dinlendiler. Daha sonra batıya gittiler ve bir noktaya daha ulaştılar. Vakit öğle olduğu için burada yemek molası verdiler. Daha sonra da buradan da batıya doğru giderek hazineye ulaştılar.

Hazineyi nerede bulmuşlardır?

- A) Ulu Ağaçlığı
- B) Kara Mağaralar
- C) Sivri Tepeler
- D) Korku bataklığı

	Güneşli	Bulutlu	Yağmur	Karlı	Rüzgarlı
Pazartesi	X				
Salı			X		
Çarşamba				X	
Perşembe		X			
Cuma					X
Cumartesi	X				
Pazar		X			

20) Yukarıdaki bir haftalık hava durumu tablosuna göre, güneşli olan günler hangileridir?

- A) Perşembe ve Pazar
- B) Pazartesi ve Cumartesi
- C) Salı ve Çarşamba
- D) Pazartesi ve Cuma

21) Aşağıdakilerden hangisi dua örneklerinden değildir?

- A) Allah en doğrusunu bilir.
- B) Allah bereket versin
- C) Allah şifa versin
- D) Allah sizden razı olsun

22) Aşağıdakilerden hangisi sevap olan bir davranış değildir?

- A) Engelli insanlara yardım etmek.
- B) Anne babaya iyi davranmak.
- C) Yoksullara yardım etmek.
- D) Çevreyi kirletmek.

23) Aşağıdakilerden hangisi ilk insan ve ilk peygamberdir?

- A) Hz. Adem (a.s)
- B) Hz. Musa (a.s)
- C) Hz. İbrahim (a.s)
- D) Hz. İsmail (a.s)

24) Aşağıdakilerden hangileri Kur' an -ı Kerim' deki ilk ve son suredir?

İLK **SON**

- A) Bakara Suresi Nas Suresi
- B) Fatıha Suresi Kevser Suresi
- C) Nas Suresi Kevser Suresi
- D) Fatıha Suresi Nas Suresi

25) İslam dininin beş temel şartı vardır. Aşağıdakilerden hangisi bunlardan biri değildir?

- A) Kelime-i Şehadet Getirmek
- B) Zekat vermek
- C) Oruç tutmak
- D) Borç vermek

21) Aşağıdakilerden hangisi fiziksel bir özelliğimiz değildir?

- A) Kitap okumayı sevmek
- B) Göz rengi
- C) Ten rengi
- D) Boy uzunluğu

22) Türkiye Cumhuriyeti' nin ilk cumhurbaşkanı kimdir?

- A) M. Akif ERSOY
- B) Kazım KARABEKİR
- C) İsmet İNÖNÜ
- D) M. Kemal ATATÜRK

23) Hangisi ana yönlerimizden biri değildir?

- A) Kuzey batı
- B) Doğu
- C) Batı
- D) Güney

24) Güneşin doğduğu yöne doğru sağ kolunu uzatan bir öğrencinin sırtı hangi bölgeyi göstermektedir?

- A) Kuzey
- B) Doğu
- C) Batı
- D) Güney

25) Çok fazla sigara tüketen bir insanın hangi organı en fazla hasar görür?

- A) Mide
- B) Bağırsakları
- C) Karaciğeri
- D) Akciğeri

SINAVINIZ BİTMİŞTİR.